


DOMANDA 5 B



Segnale n° 3

200 m

Segnale n° 5

320 m

Segnale n° 1

500 m

Segnale n° 2

↑ 200 m ↑


Segnale n° 4

↑ 2,8 Km ↑

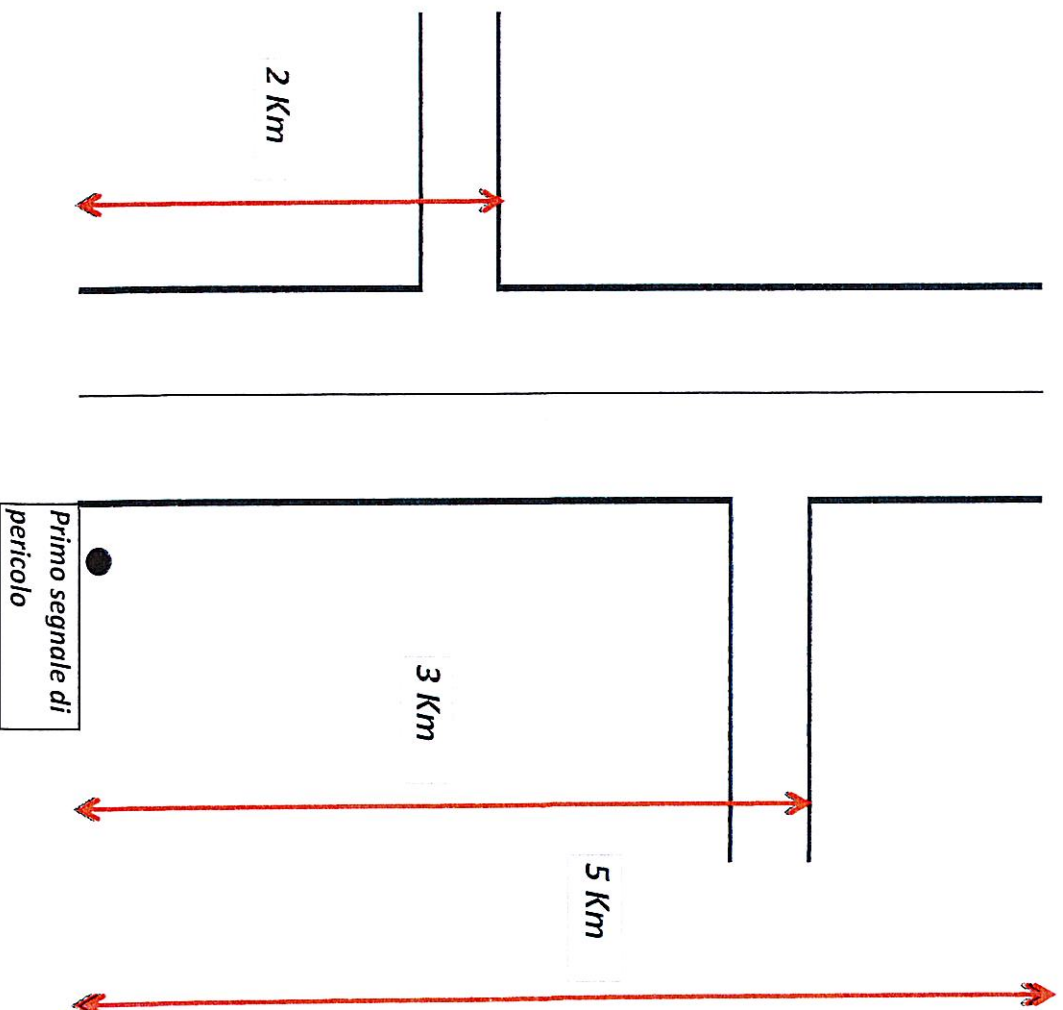
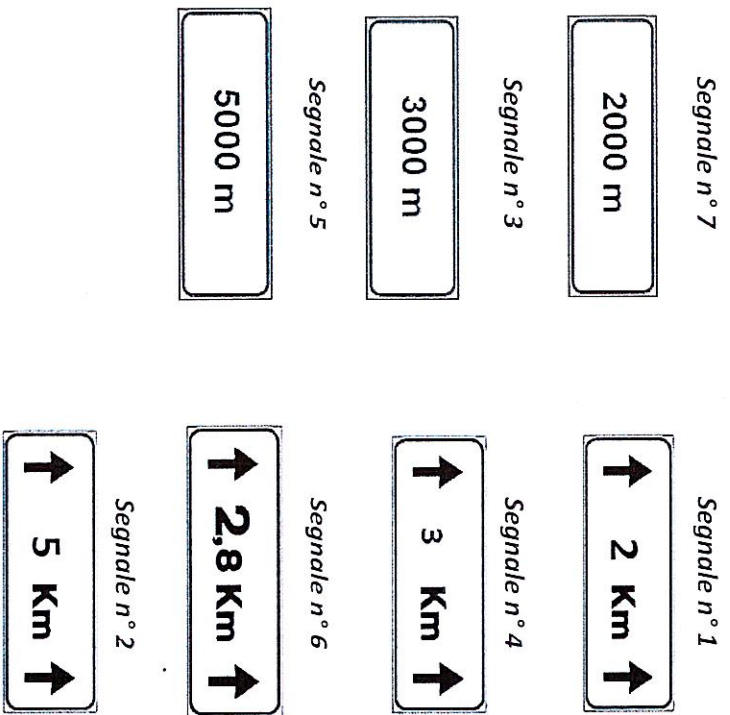
Si deve posare un segnale di precedenza, incrocio a destra (fig. 43/b) ma per motivi di visibilità deve essere posto m 200 dall'incrocio. Quale segnale integrativo va aggiunto rispetto ai cartelli proposti

com

DOMANDA 6 B




Si deve posare un cartello di pericolo di animali selvatici vaganti (fig 25) su un segmento di strada pari a 5 km vedi schema. Che tipo di pannello integrativo va aggiunto al primo segnale di pericolo e ogni quanto va ripetuto.

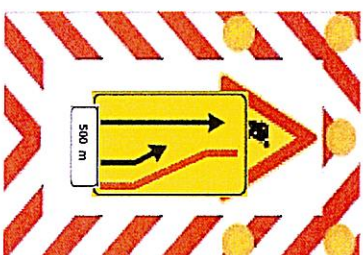


Handwritten signature and initials in blue ink.


DOMANDA 32 B



Segnale n° 3



Segnale n° 1




Segnale n° 2

Quale tipo di segnale va installato su retro di un furgone adibito alla manutenzione stradale.

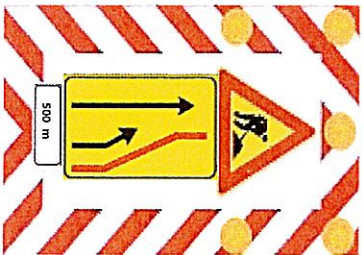
AD
AD
AD

DOMANDA 33 B


Segnale n° 3



Segnale n° 1




Segnale n° 2



Quale è il segnale di preavviso in un cantiere mobile su una strada extraurbana a due corsie per senso di marcia con spartitraffico centrale.

conf
A
B
C



Segnale n° 3



Segnale n° 1



Segnale n° 2



Quale è il segnale di protezione in un cantiere mobile su una strada extraurbana a due corsie per senso di marcia con spartitraffico centrale.

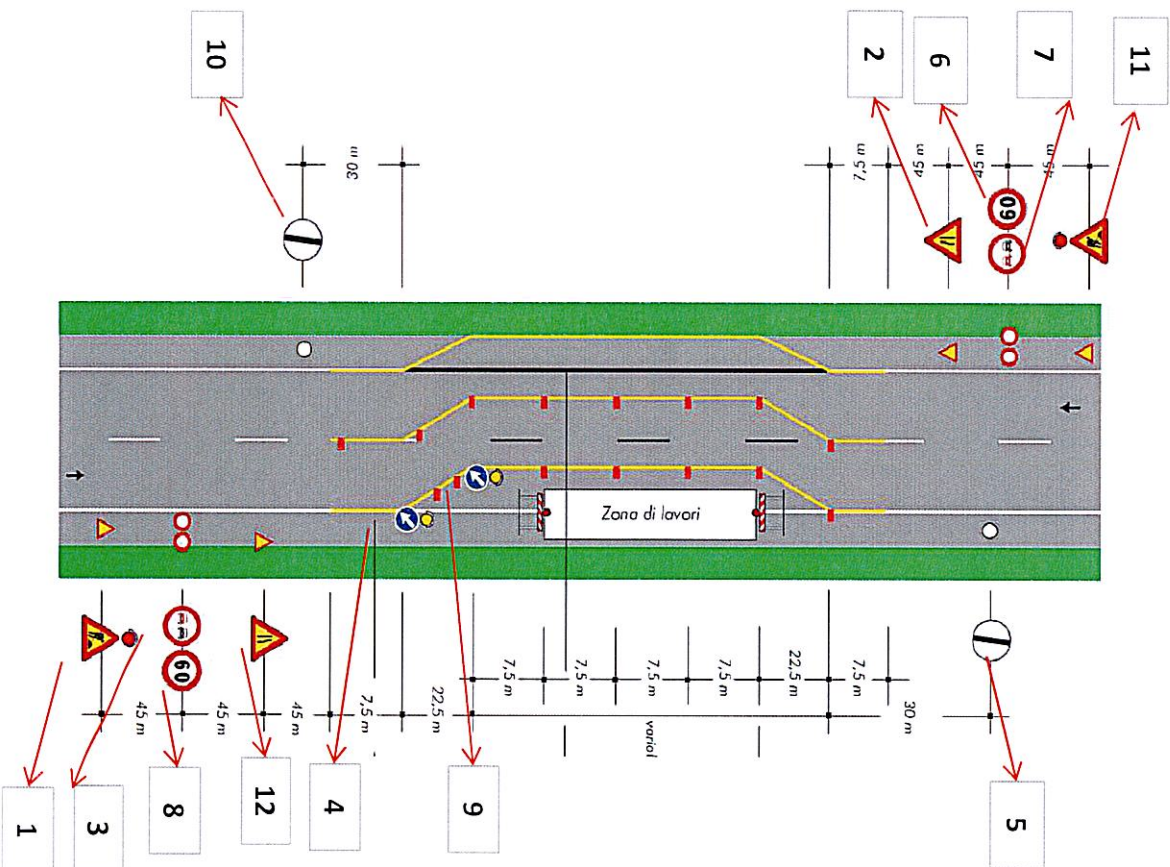
Handwritten signature and initials in blue ink.

DOMANDA 44 B

Come va disposta sul furgone la segnaletica di un cantiere stradale al fine di agevolare le operazioni di posa, e da che parte si comincia a posare la segnaletica.

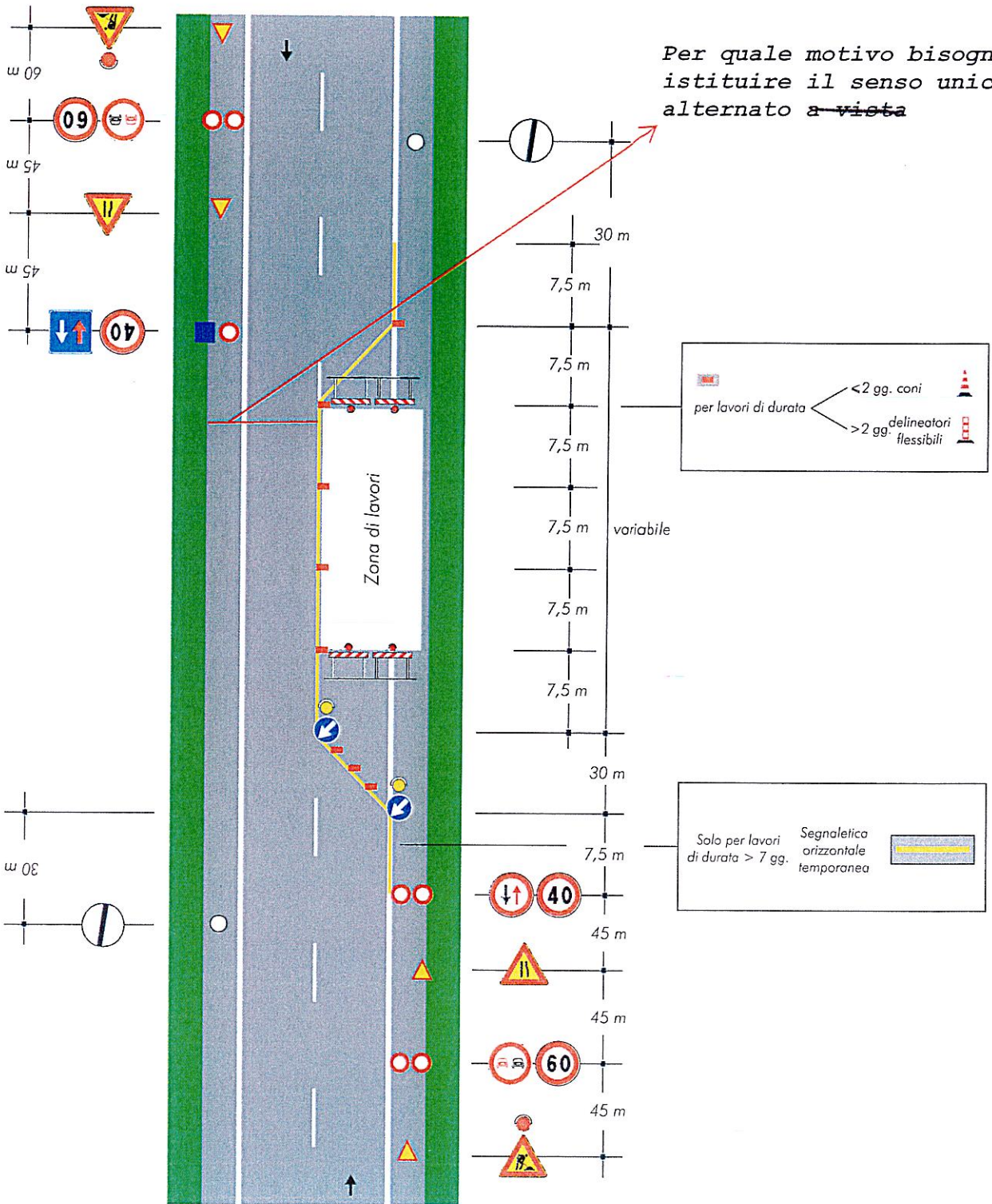
SEQUENZA

| | |
|----|--|
| 1 | |
| 2 | |
| 3 | |
| 4 | |
| 5 | |
| 6 | |
| 7 | |
| 8 | |
| 9 | |
| 10 | |
| 11 | |
| 12 | |



[Handwritten signatures and initials]

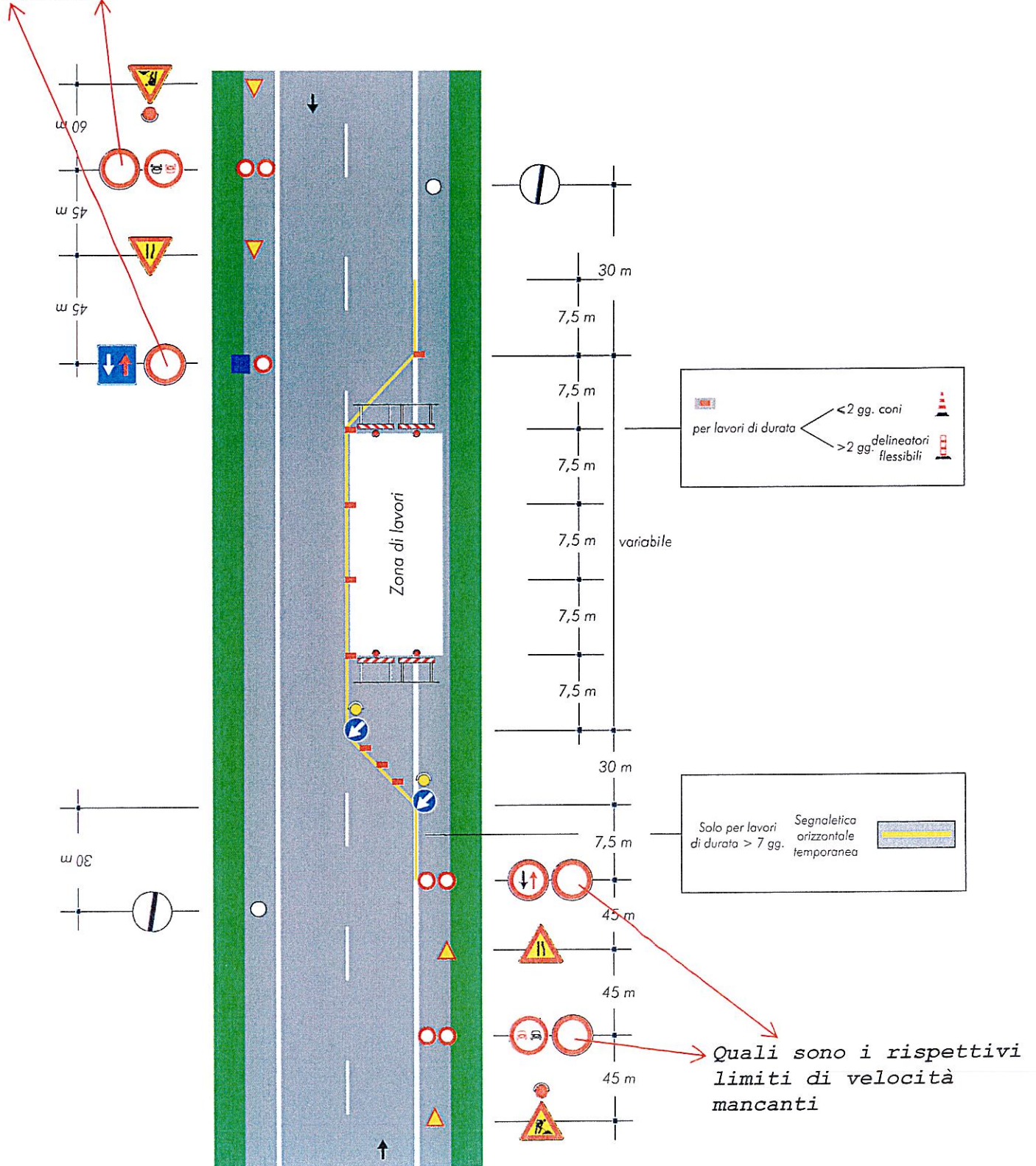
LAVORI SULLA CARREGGIATA SU STRADA EXTRAURBANA



Handwritten signatures and initials in blue ink.

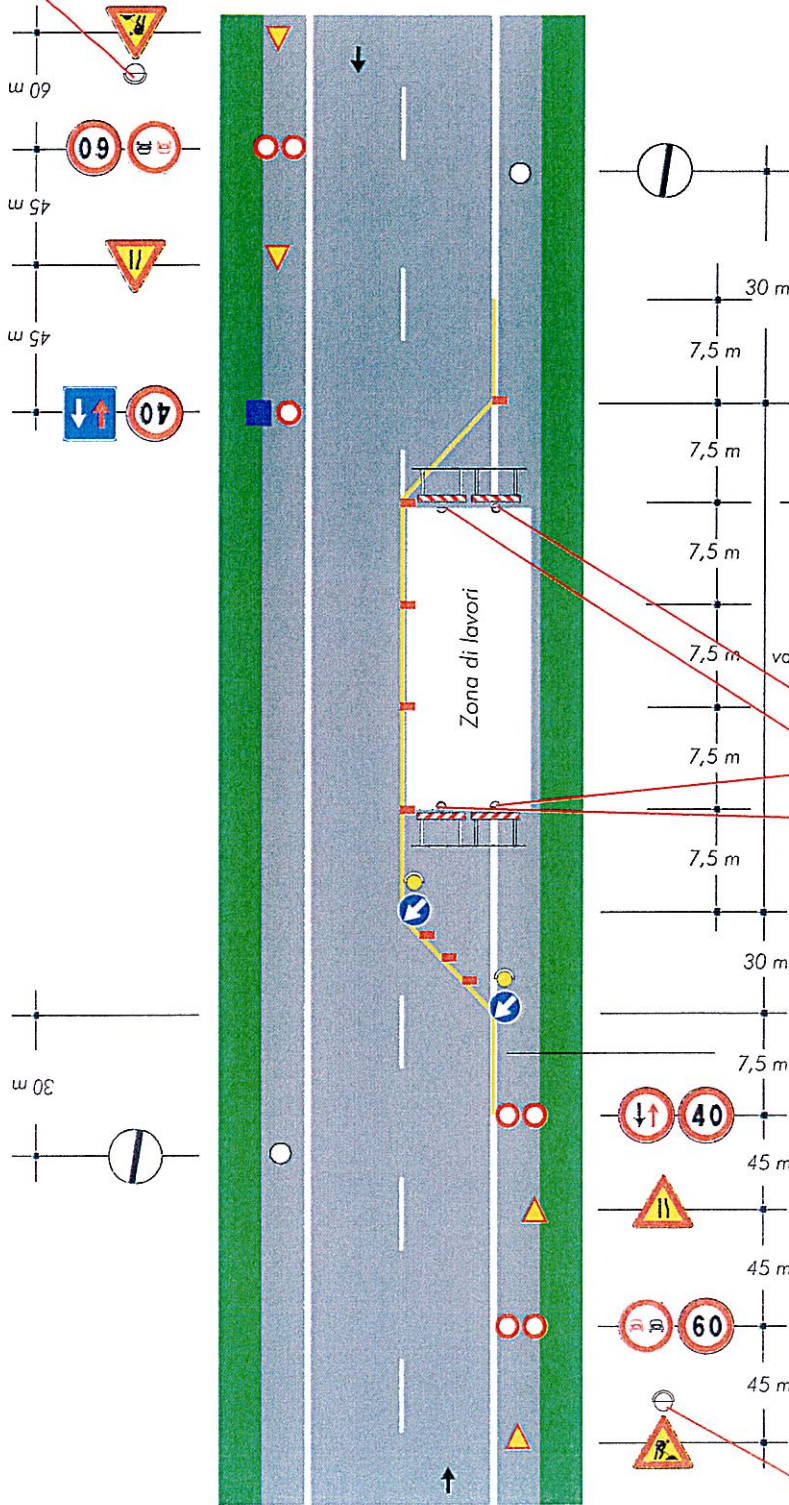
LAVORI SULLA CARREGGIATA SU STRADA EXTRAURBANA

Quali sono i rispettivi limiti di velocità mancanti



LAVORI SULLA CARREGGIATA SU STRADA EXTRAURBANA

di che colore è la luce notturna posta sul segnale



per lavori di durata < 2 gg. coni
> 2 gg. delineatori flessibili

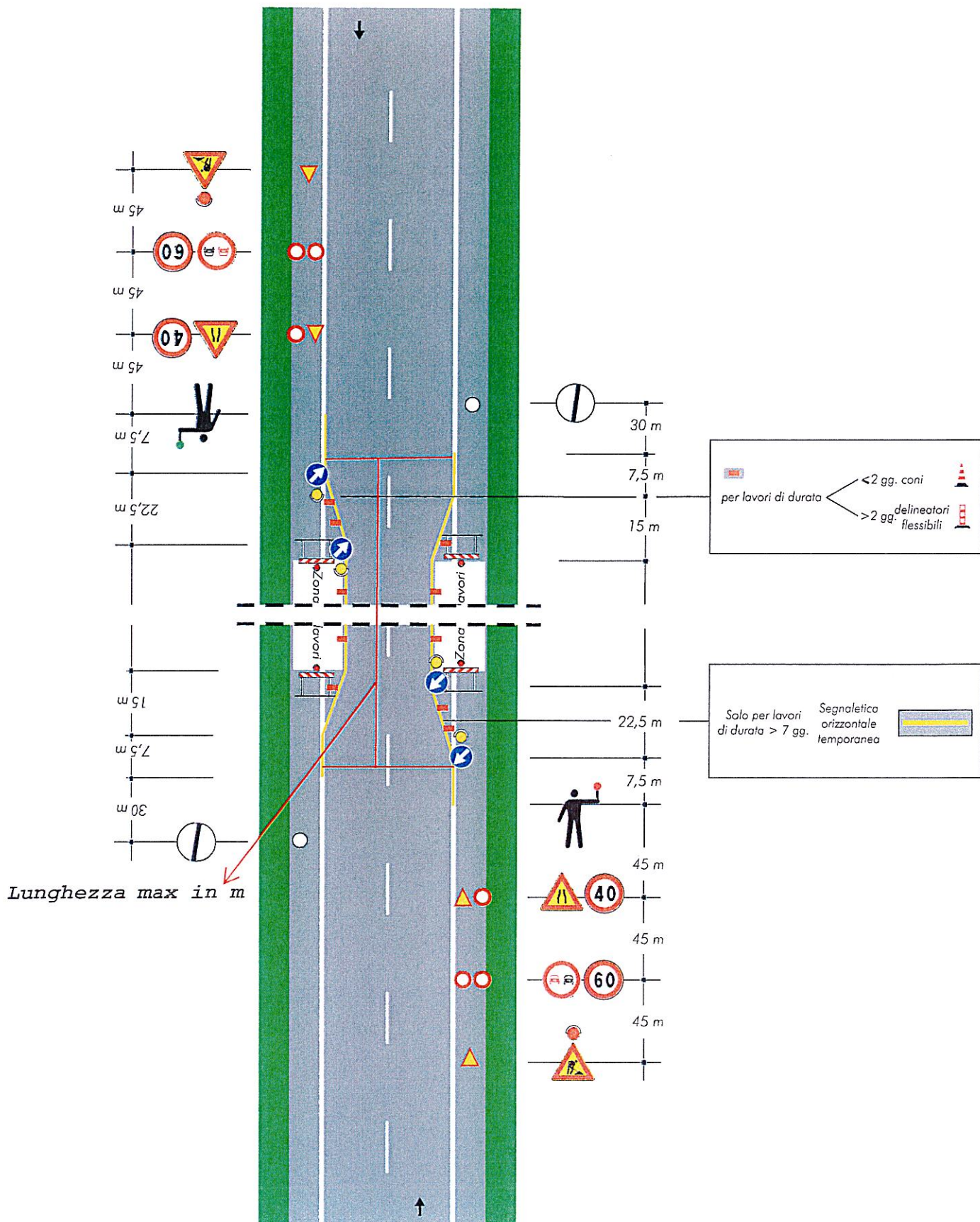
Solo per lavori di durata > 7 gg. Segnaletica orizzontale temporanea

di che colore è la luce notturna posta sulle barriere che delimitano il cantiere

di che colore è la luce notturna posta sul segnale

Handwritten signatures and the word 'MOD' in blue ink.

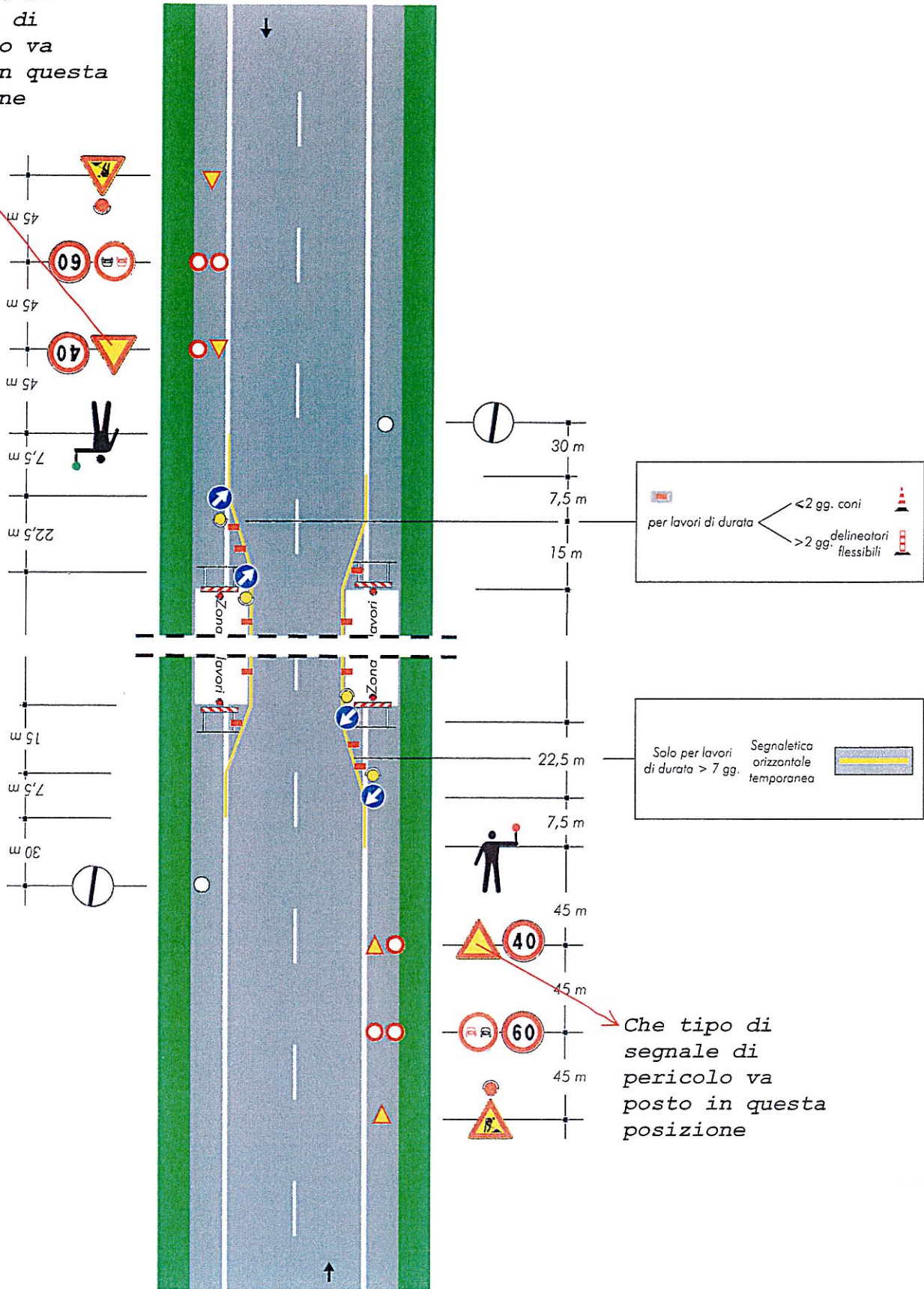
LAVORI SULLE DUE CORSIE SU STRADA EXTRAURBANA



Handwritten signatures and initials in blue ink.

LAVORI SULLE DUE CORSIE SU STRADA EXTRAURBANA

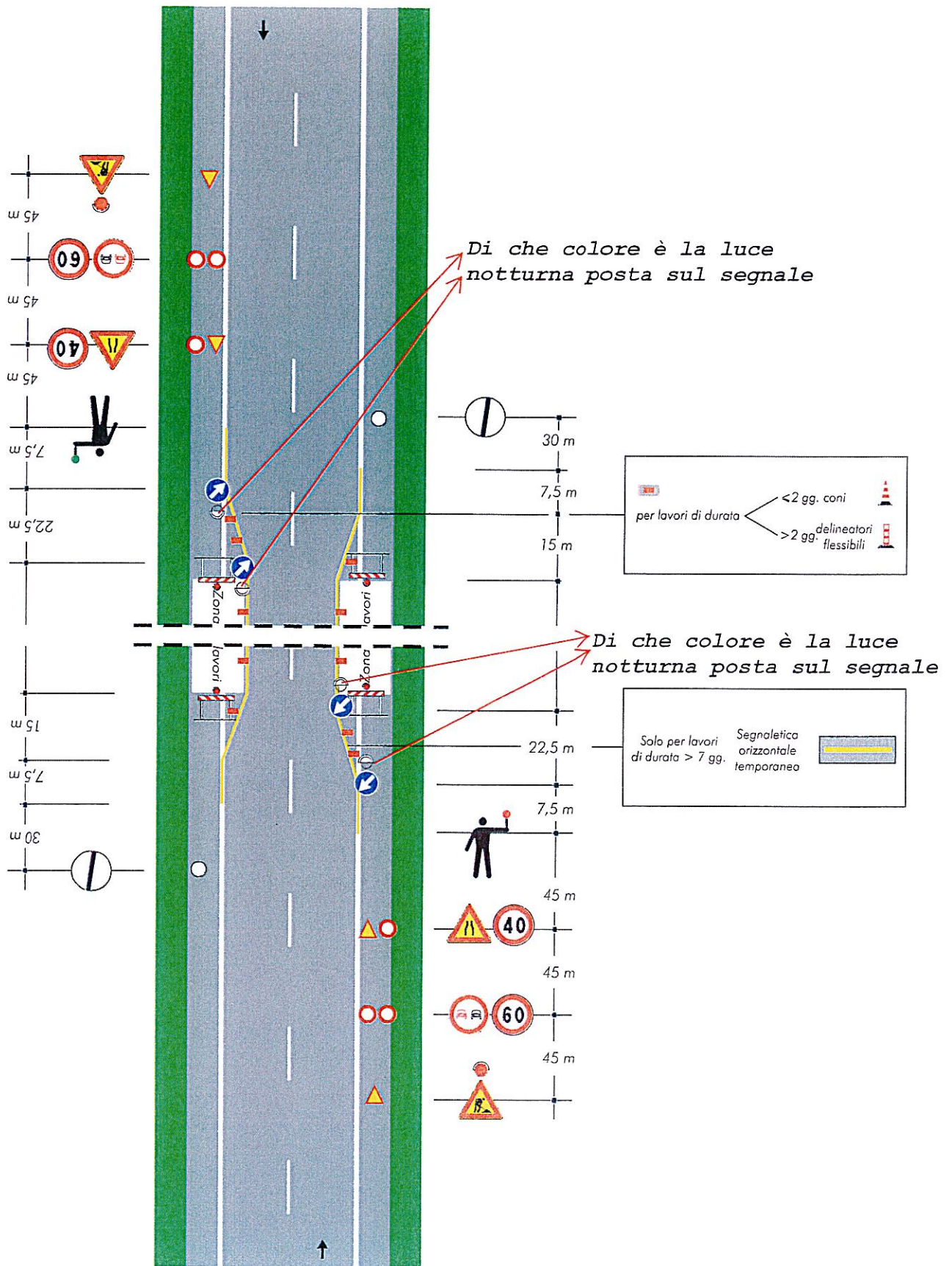
Che tipo di segnale di pericolo va posto in questa posizione



Che tipo di segnale di pericolo va posto in questa posizione

[Handwritten signatures and initials]

LAVORI SULLE DUE CORSIE SU STRADA EXTRAURBANA

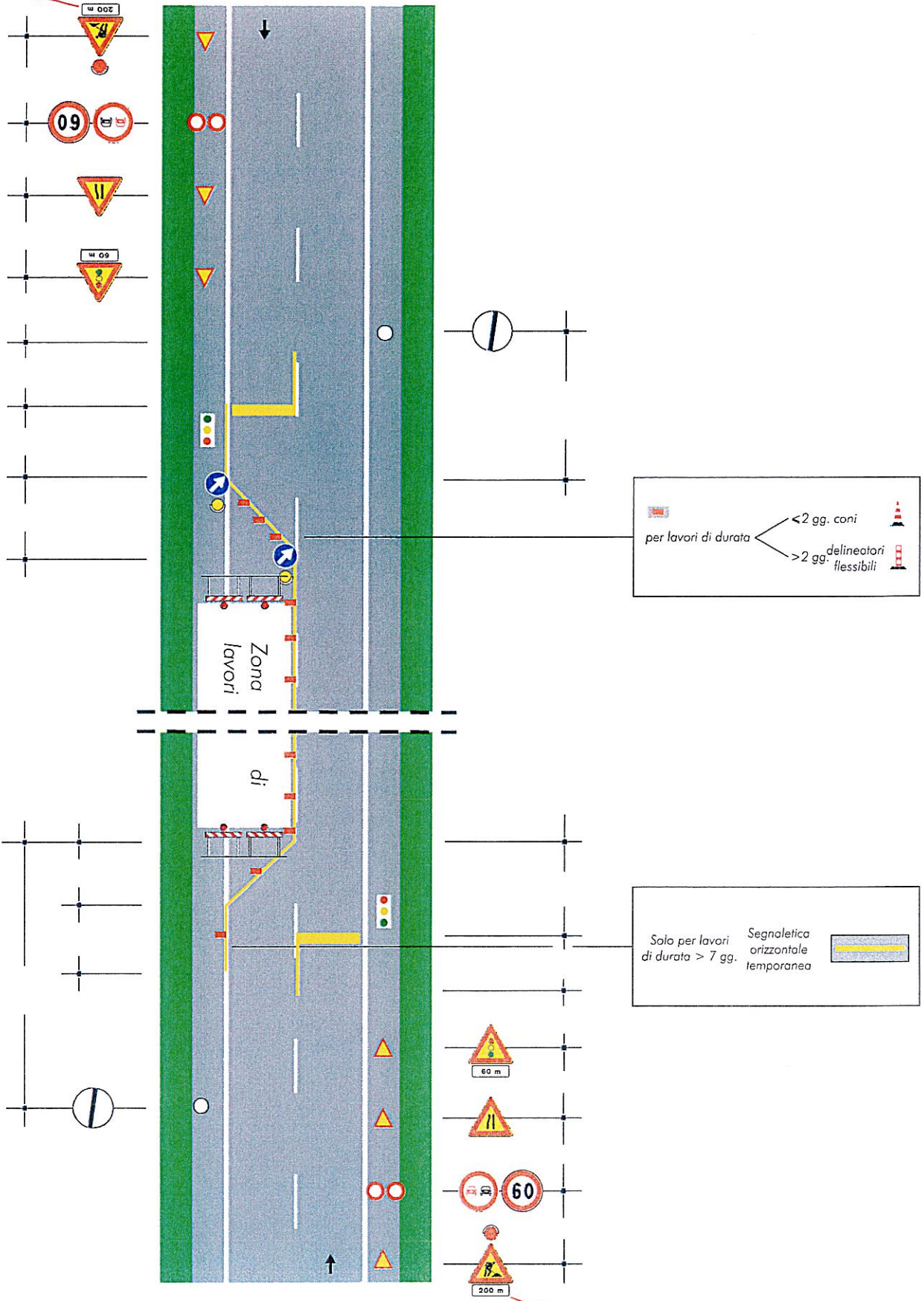


[Handwritten signature]

DOMANDA 07 C

Cosa indica il pannello aggiuntivo sotto il segnale di lavori in corso

LAVORI SULLA CARREGGIATA SU STRADA EXTRAURBANA



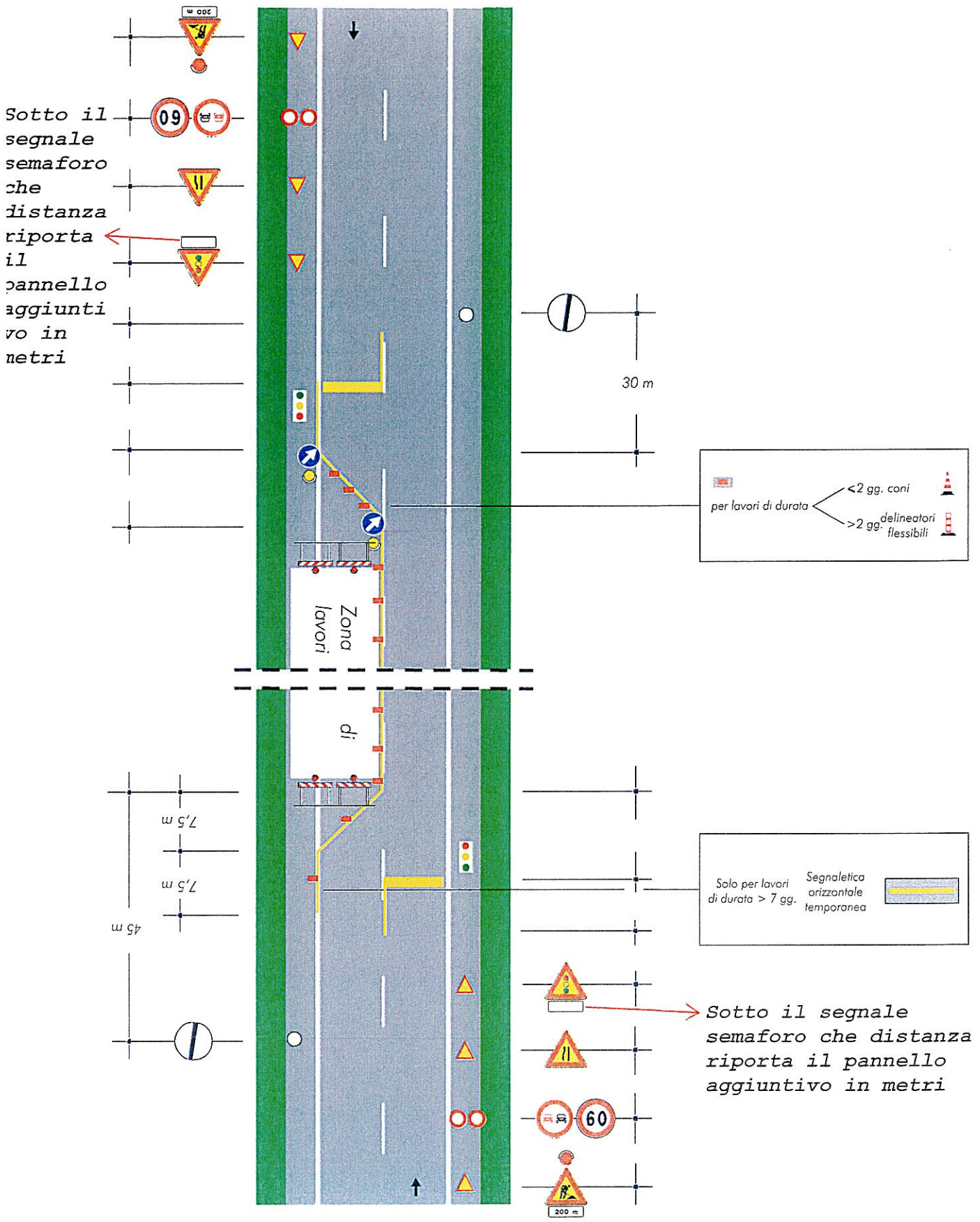
per lavori di durata

- <2 gg. coni
- >2 gg. delineatori flessibili

Solo per lavori di durata > 7 gg. Segnaletica orizzontale temporanea

Cosa indica il pannello aggiuntivo sotto il segnale di lavori in corso

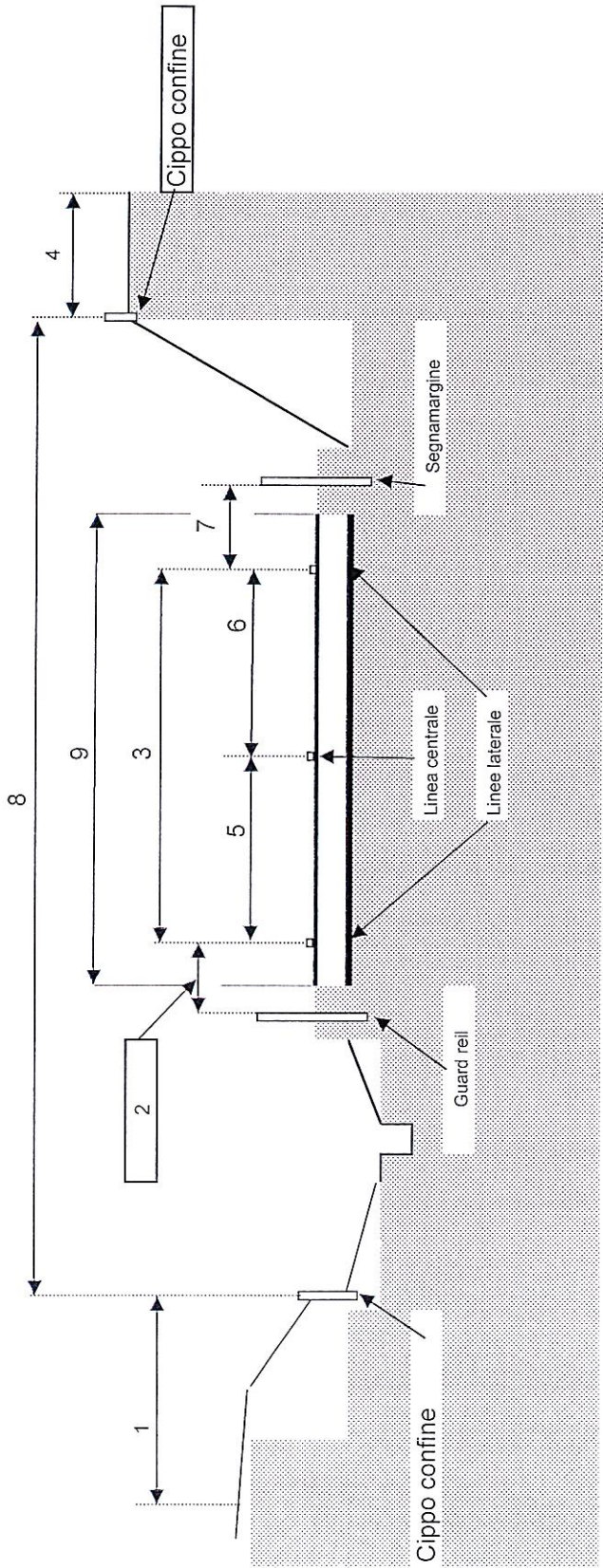
Handwritten signatures and initials in blue ink.



Handwritten signatures and initials in blue ink.

[Handwritten signatures]

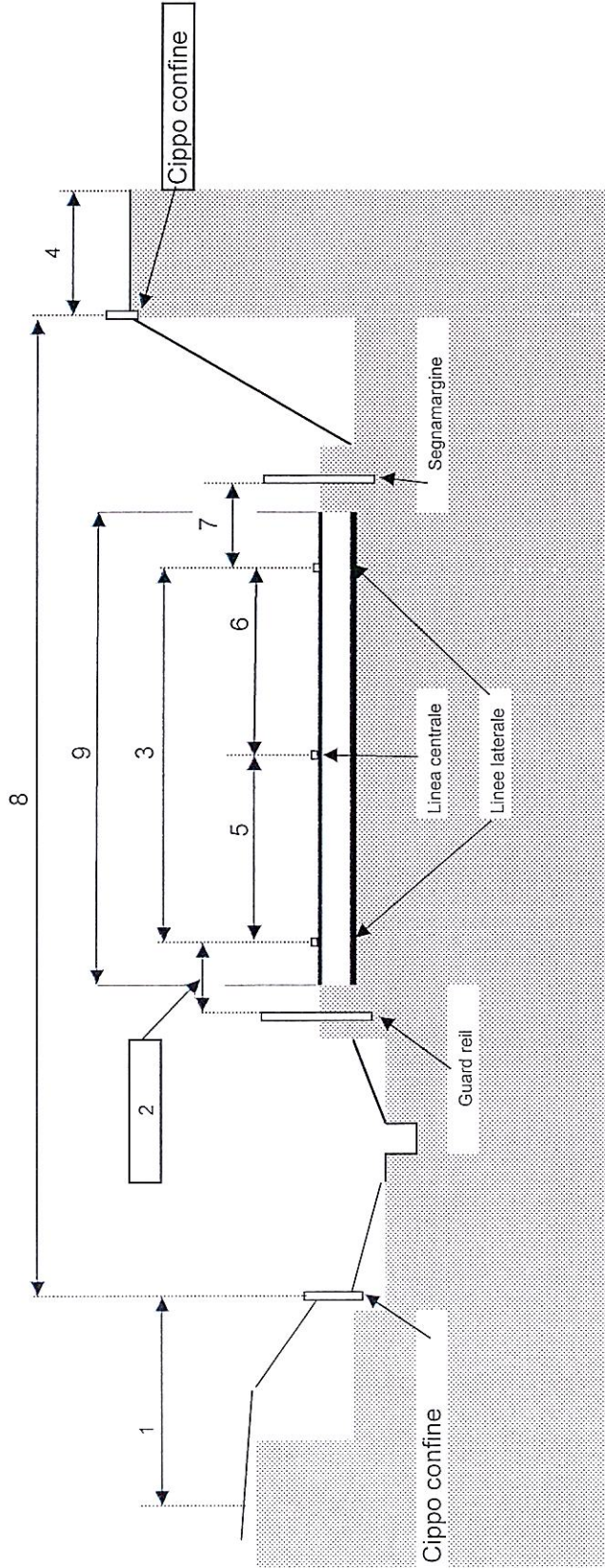
DOMANDA 09 C



Nella sezione di una strada extraurbana ad una corsia per ogni senso di marcia come schema allegato identificati il numero corrispondente alla sede stradale

Handwritten signatures and initials in blue ink.

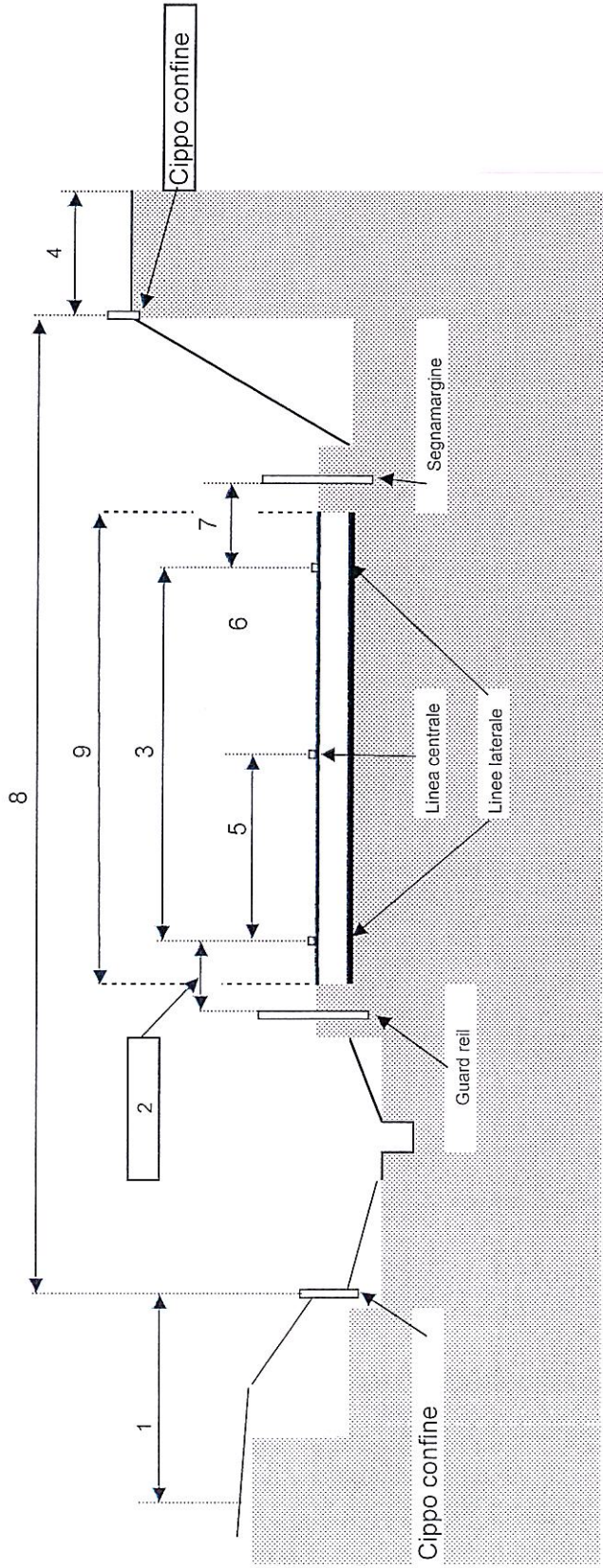
DOMANDA 10 C




Nella sezione di una strada extraurbana ad una corsia per ogni senso di marcia come schema allegato identifichi il numero corrispondente alla carreggiata

Handwritten signatures and initials in blue ink.


DOMANDA 11 C



Nella sezione di una strada extraurbana ad una corsia per ogni senso di marcia come schema allegato, si individuui la tipologia del delineatore di margine da quello riportati nello schema



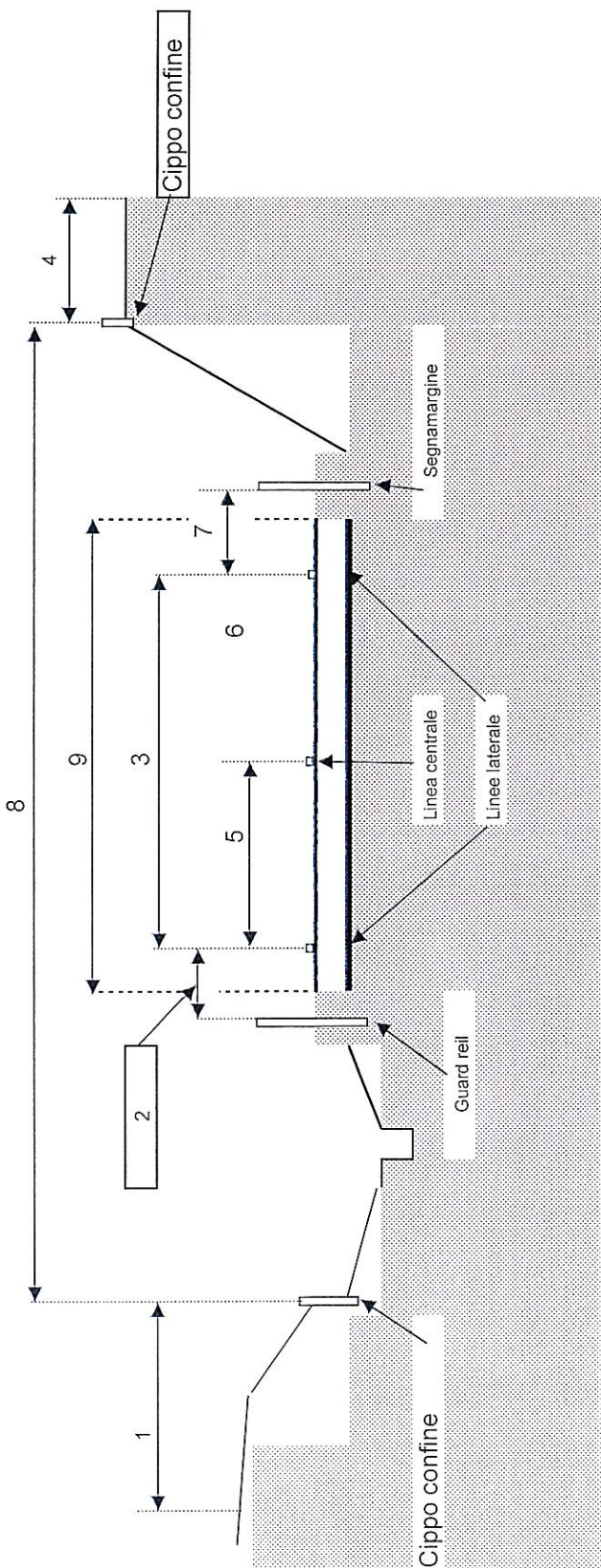
Tipo n° 2



Tipo n° 1

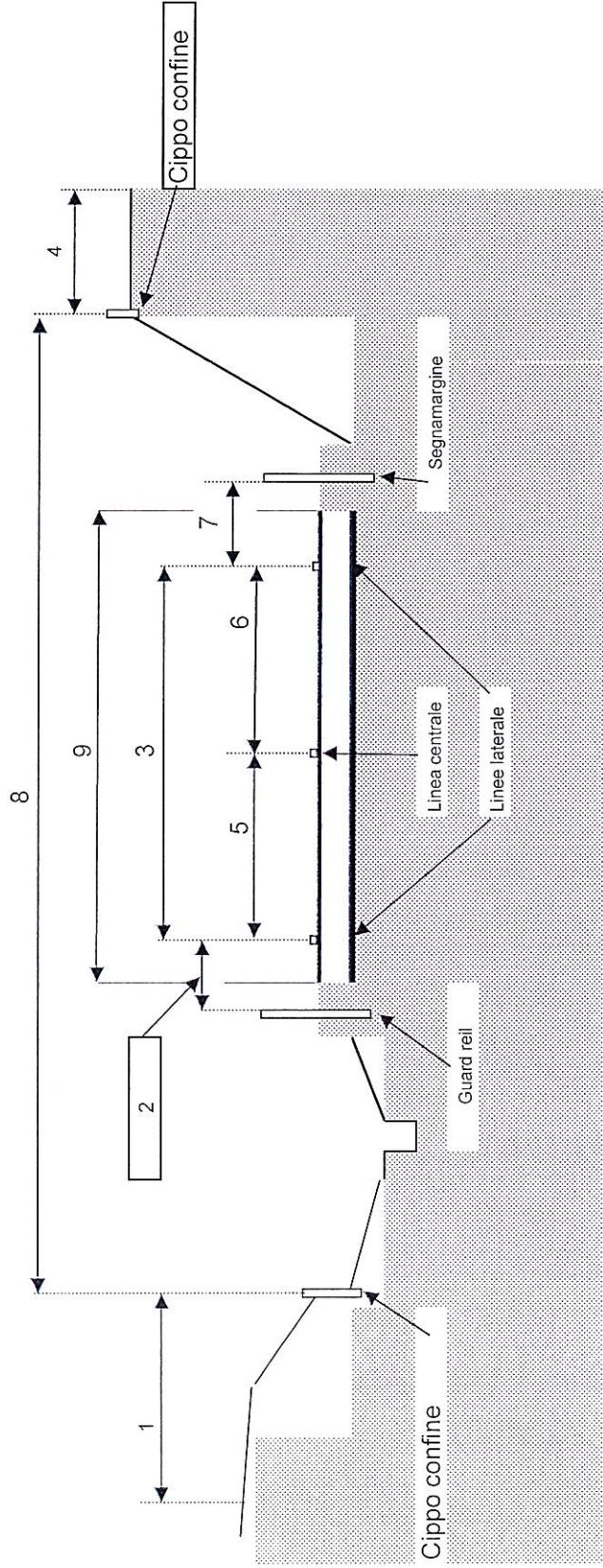
[Handwritten signature]

DOMANDA 12 C



Nella sezione di una strada extraurbana ad una corsia per ogni senso di marcia come schema allegato identifichi il numero corrispondente alla banchina

DOMANDA 13 C


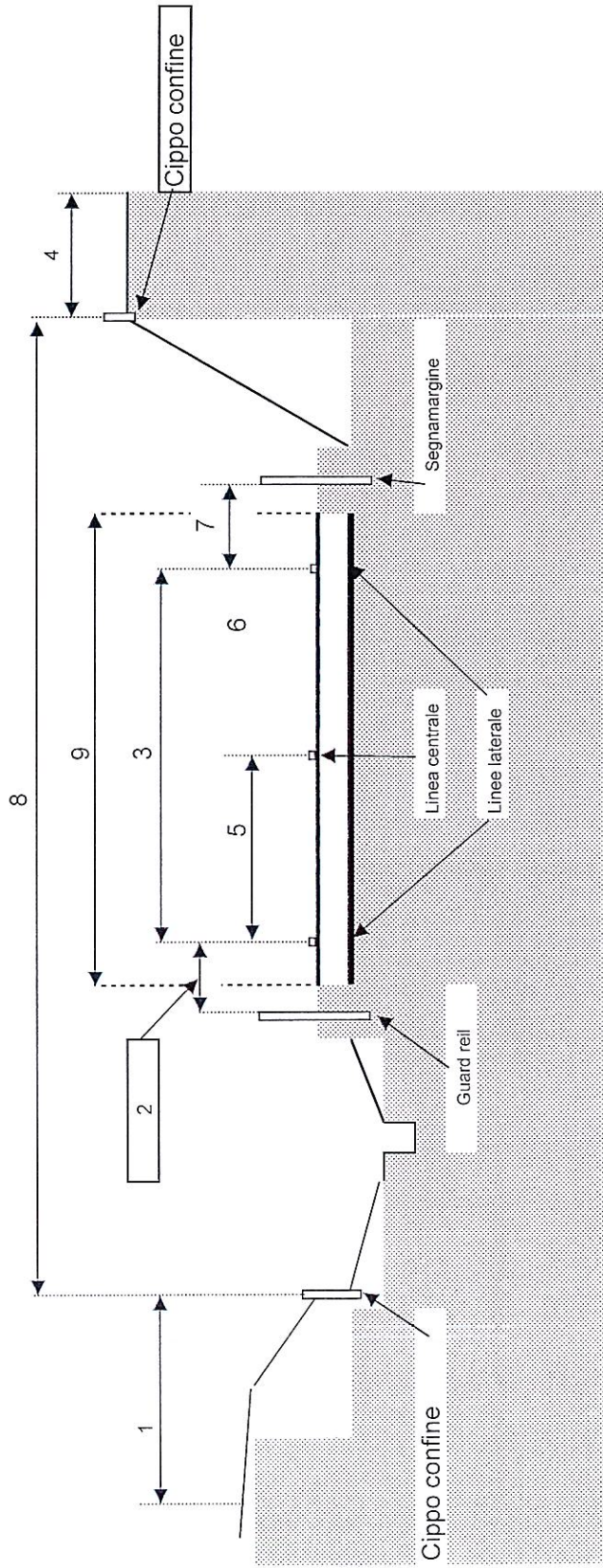


Nella sezione di una strada extraurbana ad una corsia per ogni senso di marcia come schema allegato identifichi il numero corrispondente alla corsia di marcia

Handwritten signature and initials in blue ink.

Handwritten signatures and initials in blue ink.

DOMANDA 14 C



doppia onda
Tipo n° A

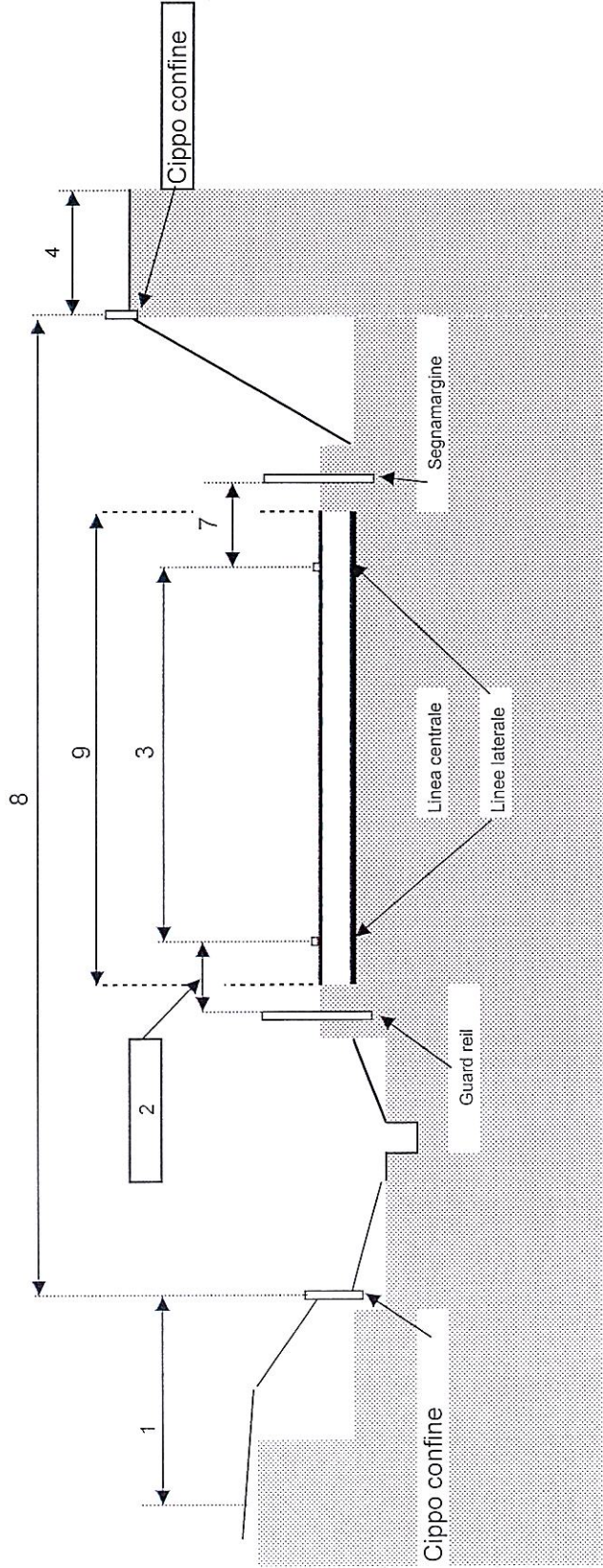


doppia onda
Tipo n° B

Nella sezione di una strada extraurbana ad una corsia per ogni senso di marcia come schema allegato si individuino la tipologia del catadiotro da inserire nel guard rail laterale

Handwritten signatures and initials in blue ink.

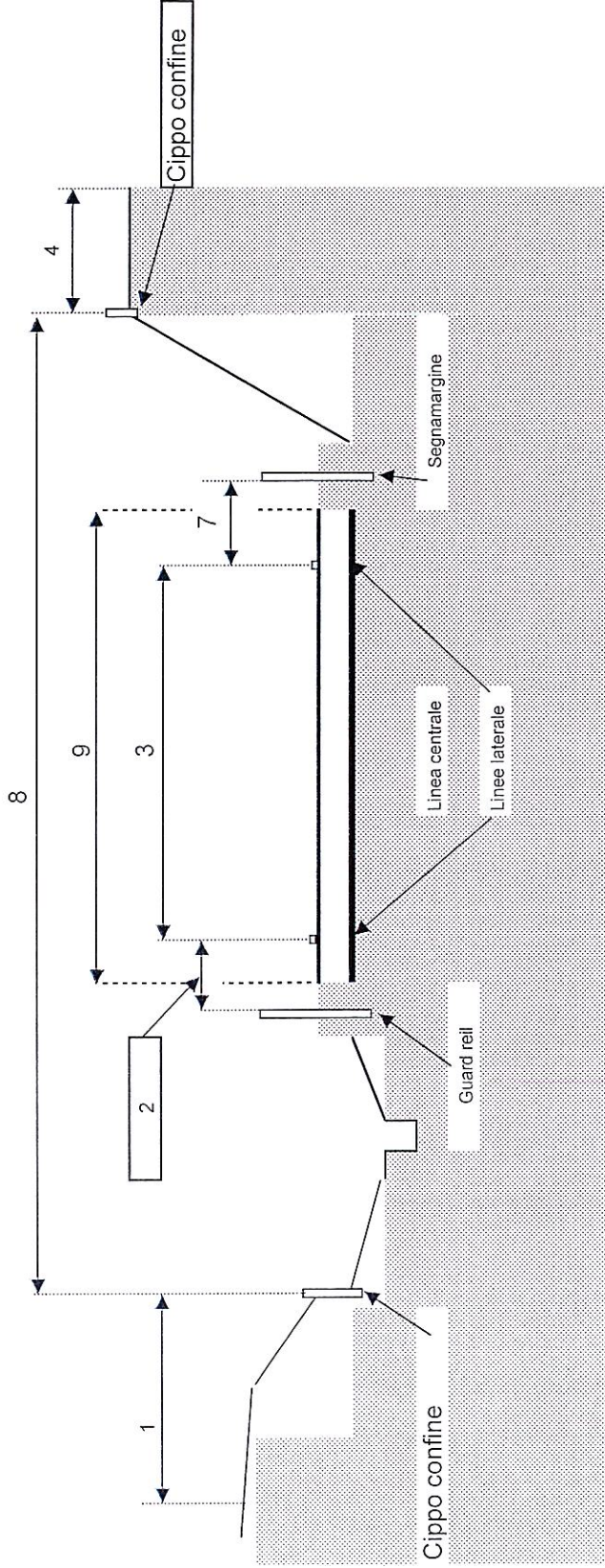
DOMANDA 15 C



Nella sezione di una strada extraurbana ad una corsia a senso unico (bretella di raccordo degli svincoli di una strada a due corsie per ogni senso di marcia) come schema allegato identifichi il numero corrispondente alla corsia di marcia.

Handwritten signatures and initials in blue ink.

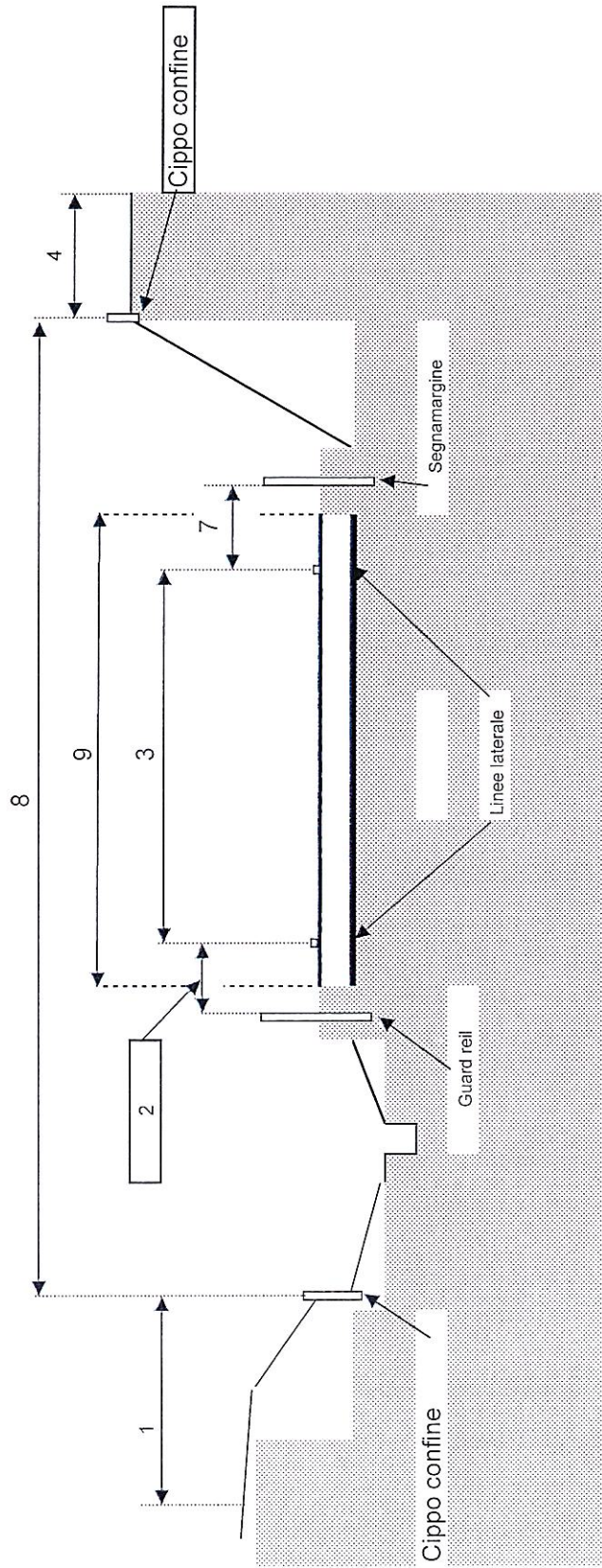
DOMANDA 16 C




Nella sezione di una strada extraurbana ad una corsia a senso unico (bretella di raccordo degli svincoli di una strada a due corsie per ogni senso di marcia) come schema allegato identifichi il numero corrispondente alla fascia di rispetto

Handwritten signature and initials in blue ink.


DOMANDA 17 C



Nella sezione di una strada extraurbana ad una corsia a senso unico (bretella di raccordo degli svincoli di una strada a due corsie per ogni senso di marcia) come schema allegato si individuï la tipologia del delineatore di margine da quello riportati nello schema



Tipo n° 2

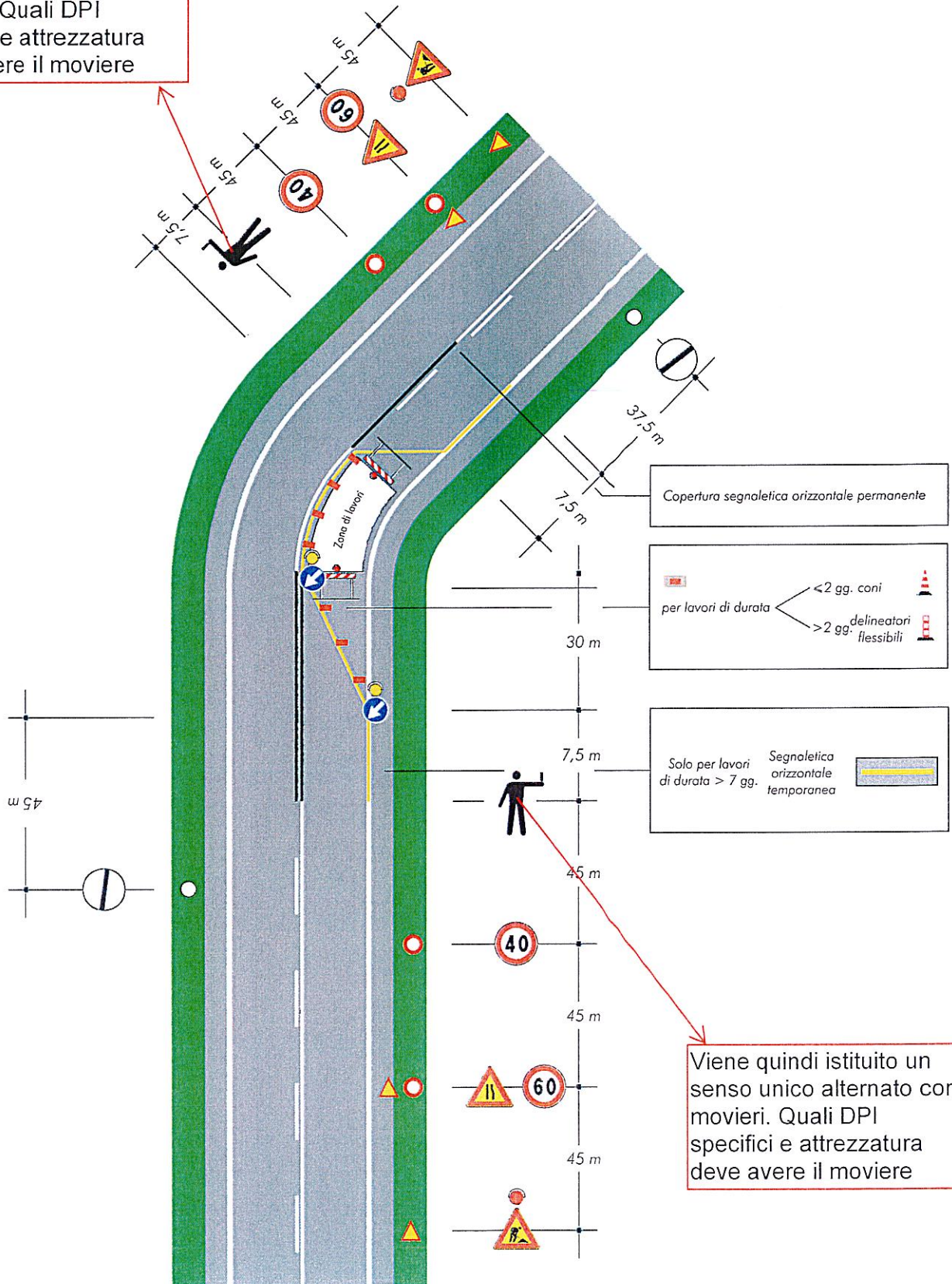


Tipo n° 1

DOMANDA 18 C

CANTIERE DIETRO UNA CURVA, CON PRESENZA DI PARETI ROCCIOSE

Viene quindi istituito un senso unico alternato con movieri. Quali DPI specifici e attrezzatura deve avere il moviere




Viene quindi istituito un senso unico alternato con movieri. Quali DPI specifici e attrezzatura deve avere il moviere

RE

[Handwritten signature]

DOMANDA 19 C

Per l'attività di taglio rami con motosega in un'area pianeggiante indicare quali DPI specifici sono necessari.




Guanti antivibranti

Alcuni DPI Individuali

n° 8  Cuffie o inserti per protezione

n° 4  Occhiali o visiera

n° 3  Elmetto di protezione

n° 2  Tuta antitaglio o pantaloni antitaglio

n° 5  Imbracatura omologata

n° 7  Guanti antivibranti

n° 1  Calzature antinfortunistiche

n° 6  Maschere filtranti

DOMANDA 20 C




Per l'attività di taglio erba con decespugliatore lungo la banchina stradale indicare quali DPI specifici sono necessari.

Alcuni DPI Individuali

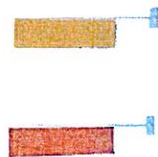
- | | | | | | |
|------|--|------|-----------------------|------|-----------------------|
| N° 8 | Cuffie o inserti per protezione | N° 4 | Occhiali o visiera | N° 3 | Elmetto di protezione |
| N° 2 | Tuta antitaglio o pantaloni antitaglio | N° 5 | Imbracatura omologata | N° 7 | Guanti antivibranti |
| N° 1 | Calzature antinfortunistiche | N° 6 | Mascherine filtranti | | |

[Handwritten signature]



DOMANDA 21 C









Per l'attività di pulizia segnaletica in galleria indicare quali DPI specifici sono necessari.



Delineatori di galleria

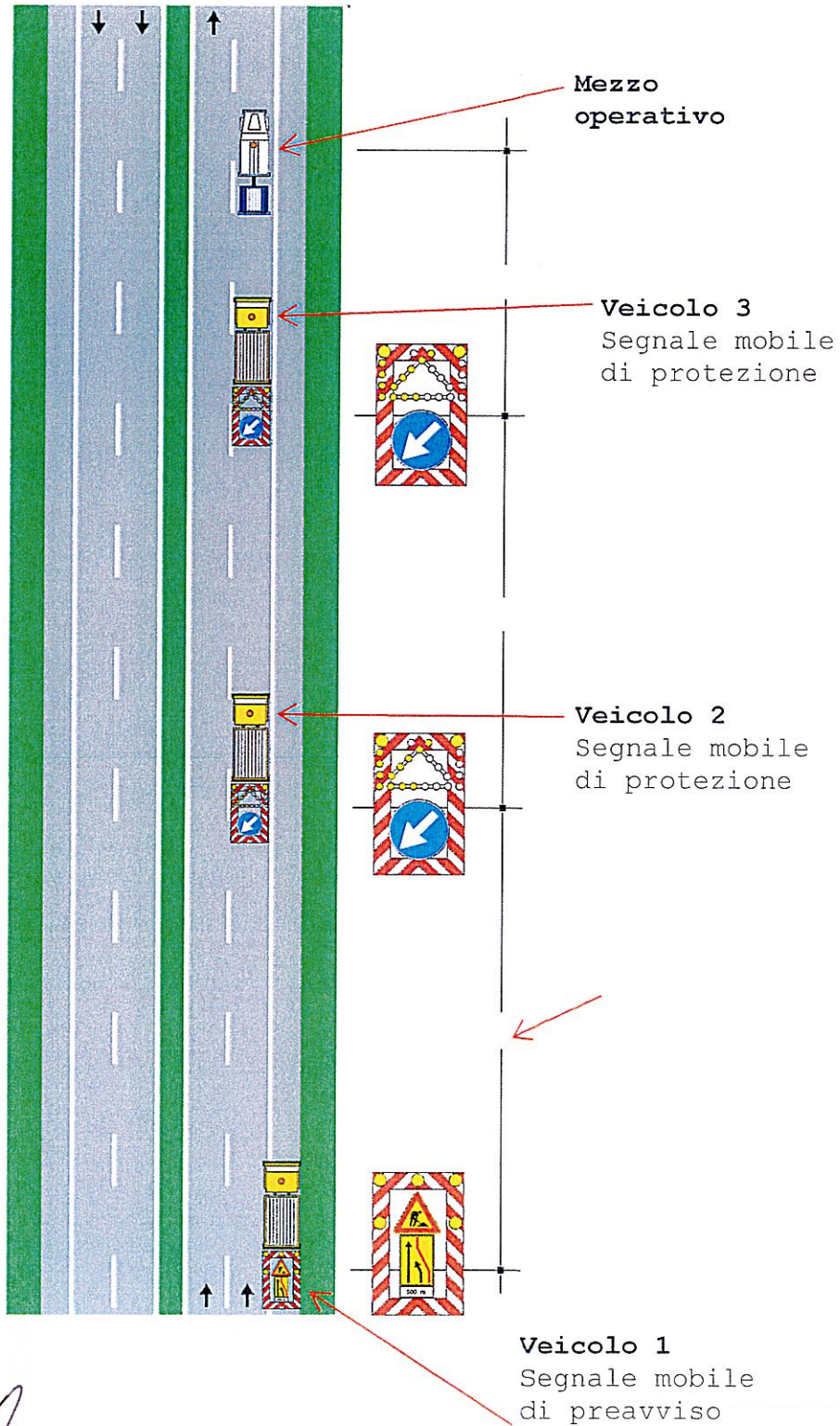
Guanti antivibranti

Alcuni DPI Individuali

- | | | |
|-------------|---|--|
| n° 2 |  | Cuffie o inserti per protezione |
| n° 8 |  | Tuta antitaglio o pantaloni antitaglio |
| n° 6 |  | Calzature antinfortunistiche |
| n° 3 |  | Occhiali o visiera |
| n° 4 |  | Elmetto di protezione |
| n° 7 |  | Imbracatura omologata |
| n° 5 |  | Guanti |
| n° 1 |  | Semi maschera con feltro |

DOMANDA 22 C

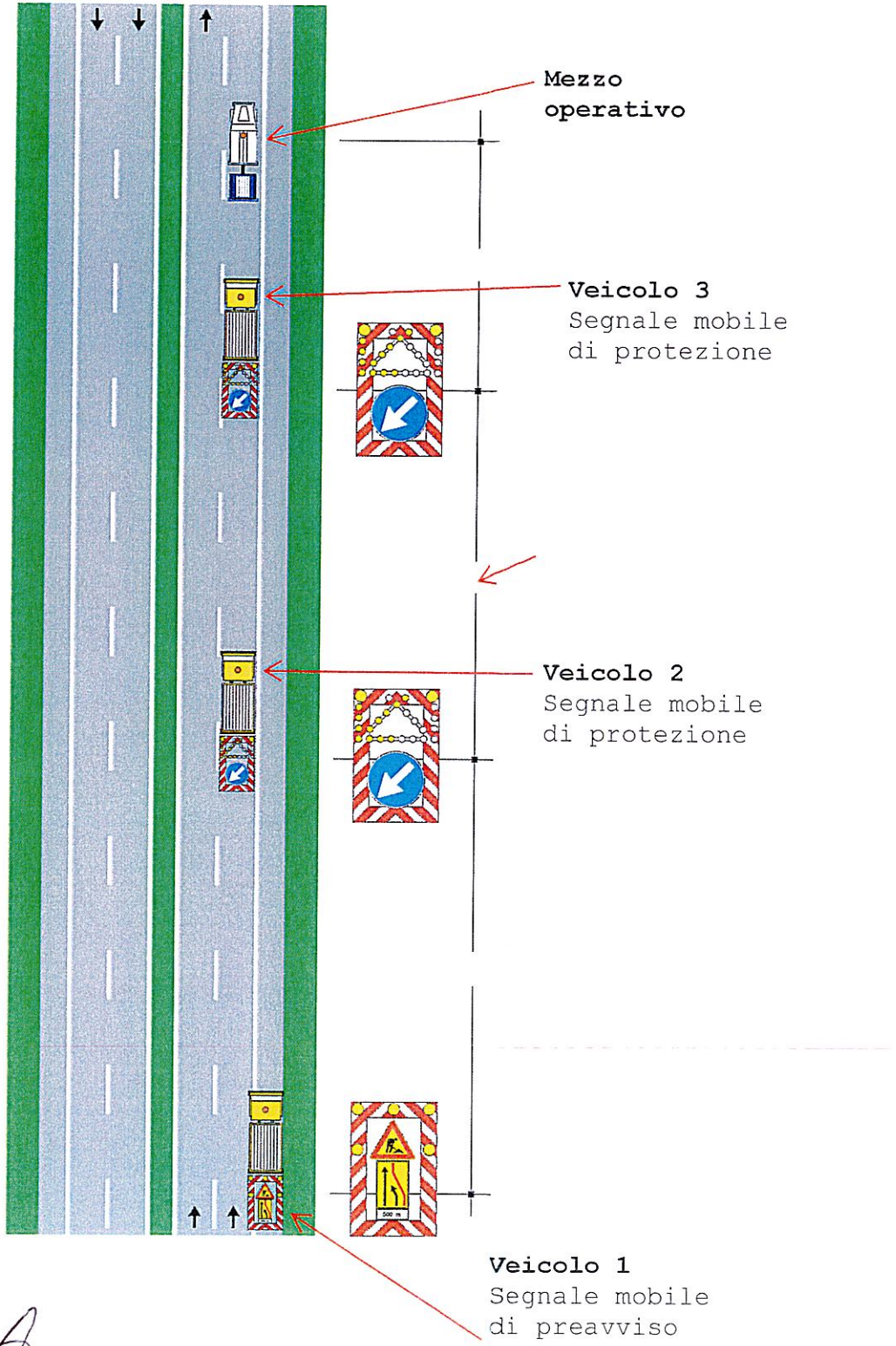
In un cantiere mobile per attività di spazzamento su una strada extraurbana a due corsie per senso di marcia con spartitraffico centrale



Handwritten signature and initials

DOMANDA 23 C

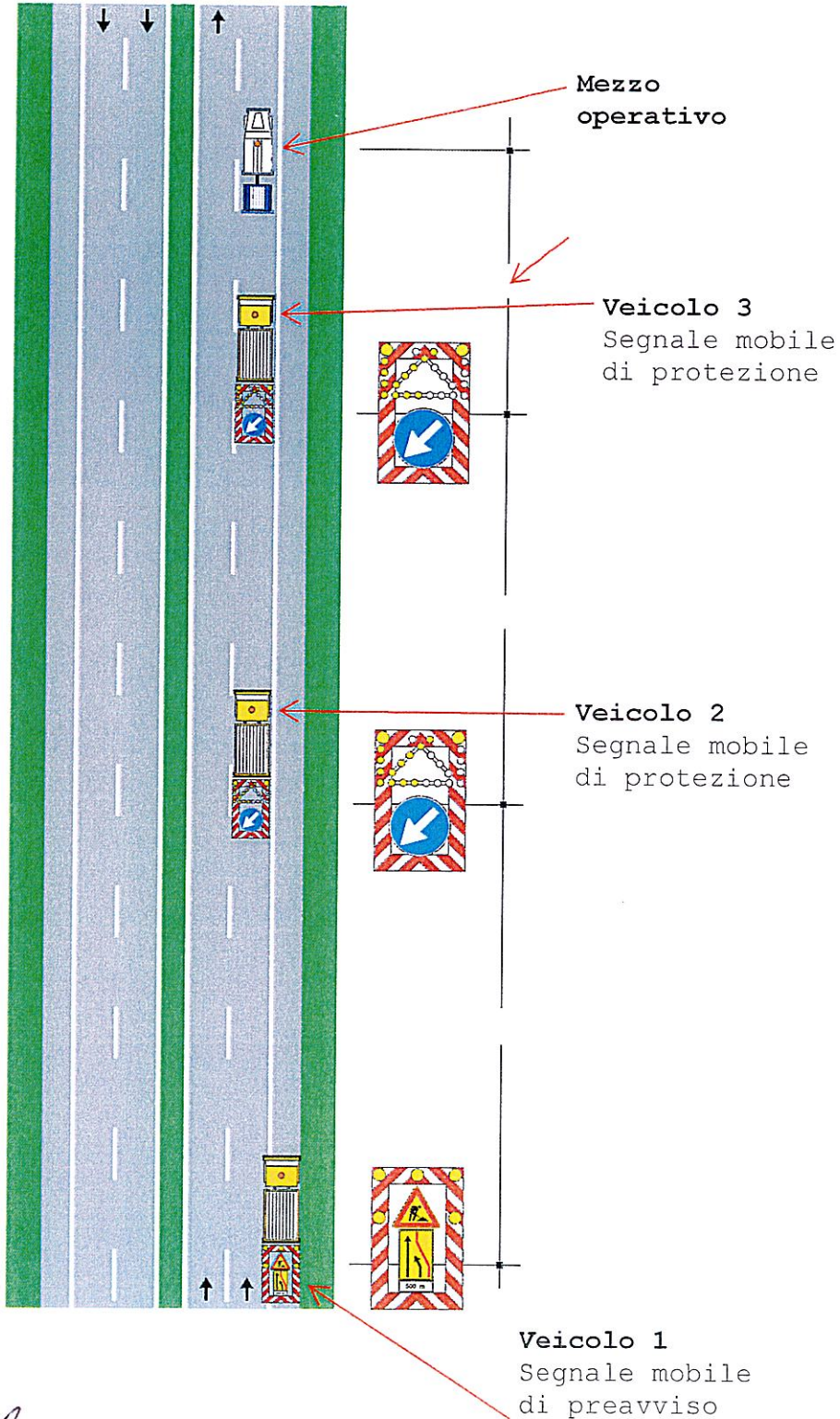
In un cantiere mobile per attività di spazzamento su una strada extraurbana a due corsie per senso di marcia con spartitraffico centrale



[Handwritten signature]

DOMANDA 24 C

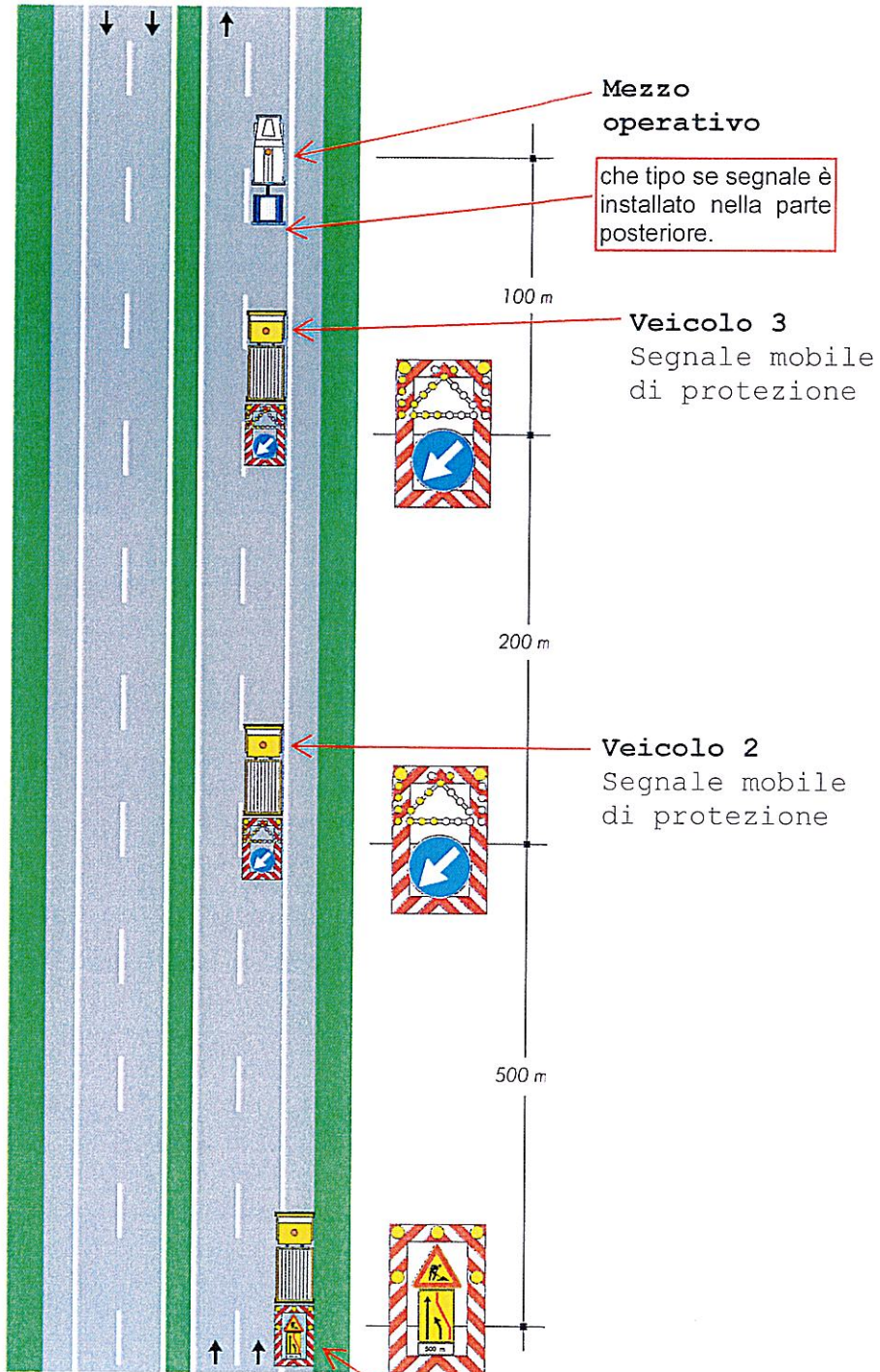
In un cantiere mobile per attività di spazzamento su una strada extraurbana a due corsie per senso di marcia con spartitraffico centrale



[Handwritten signature]

DOMANDA 25 C

In un cantiere mobile per attività di spazzamento su una strada extraurbana a due corsie per senso di marcia con spartitraffico centrale



Mezzo operativo

che tipo se segnale è installato nella parte posteriore.

Veicolo 3
Segnale mobile di protezione

Veicolo 2
Segnale mobile di protezione

Veicolo 1
Segnale mobile di preavviso

DOMANDA 26 C

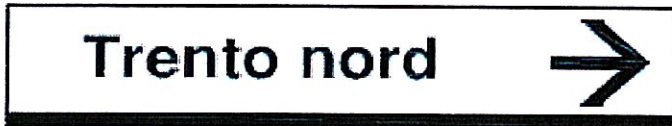


Segnale n° 1



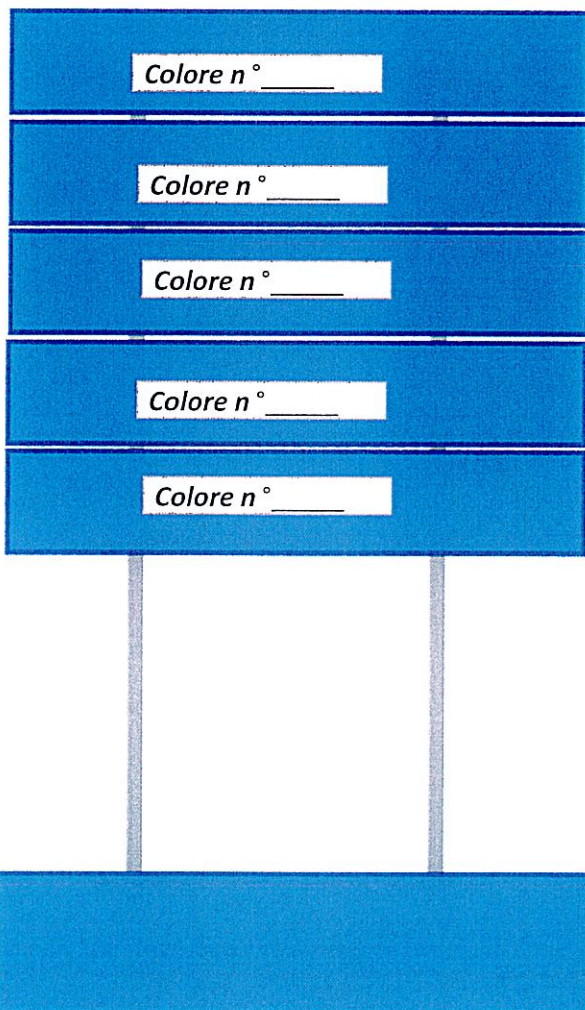
Segnale n° 2

Segnale n° 4



Segnale n° 5

Segnale n° 3



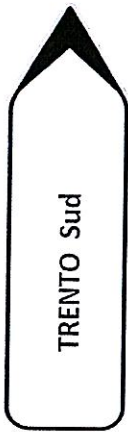
Indicare la sequenza dei colori per la
posa dei segnali di direzione su una
strada in ambito urbano

Handwritten blue ink notes and arrows. One arrow points to the top panel of the signpost. Another arrow points to the second panel. A third arrow points to the third panel. The word 'MOD' is written in blue ink at the bottom right of the notes.

DOMANDA 27 C



Direzione dritto
segnale n° 6




Direzione DX
segnale n° 3



Direzione DX
segnale n° 5



Direzione SX
segnale n° 4



Direzione SX
segnale n° 2



Direzione SX
segnale n° 1

*Indicare la sequenza delle direzioni
per la posa dei segnali di direzione
su una strada in ambito extraurbano*

Segnale n° _____


Segnale n° _____

Segnale n° _____

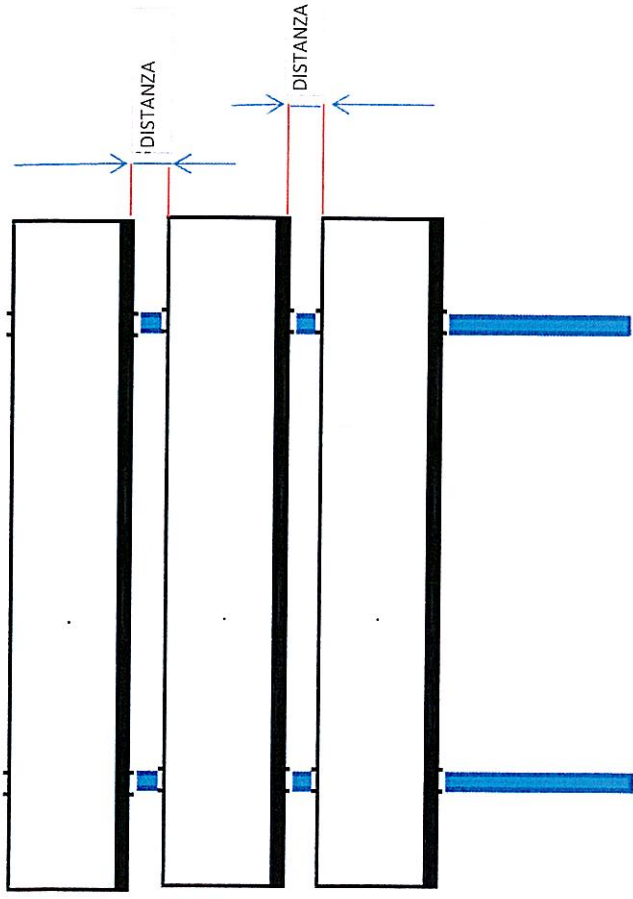
Segnale n° _____

Segnale n° _____

Segnale n° _____



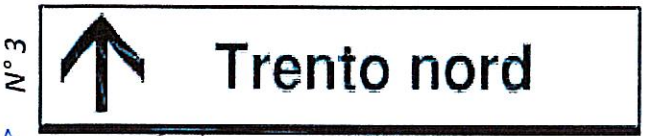
DISTANZA TRA GRUPPI



Indicare la distanza tra gruppi di segnali di direzione e la sequenza dei colori per ogni gruppo su una strada in ambito urbano


SEQUENZA COLORI

| | |
|---|--|
| 1 | |
| 2 | |
| 3 | |
| 4 | |
| 5 | |
| 6 | |



Handwritten signatures and initials in blue ink.


DOMANDA 29 C



1



2




3

RF

Impianto n° 1



4



5

Impianto n° 2



6



7



8



9



10


Distribuire n. 10 segnali di indicazione su due impianti segnaletici come da schema rispettando direzione e colore, riportando i numeri di posa coerenti.

DOMANDA 30 C

Handwritten signatures and initials in blue ink.



OLIO GASOLIO



Sacchi PATTUME Neri AD Alta Resistenza




Devi intervenire a seguito di un incidente con contenuto sversamento di olio senza danni all'infrastruttura stradale, cosa carichi sul furgone tra materiale e segnaletica, vedi schema.




Materiale oleoassorbente

In un incrocio a 90° tra due strade extraurbane (vedi schema) all'interno di un centro abitato, quale tipologia di segnale va posato oltre alla segnaletica di indicazione.

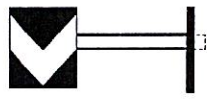
[Handwritten signature and initials]



Segnale n° 1



Segnale n° 2




Segnale n° 3

CENTRO ABITATO




Segnale n°




DOMANDA 32 C

Lungo un tornante su un tratto di strada extraurbano (vedi schema) quale tipologia di segnale va posato



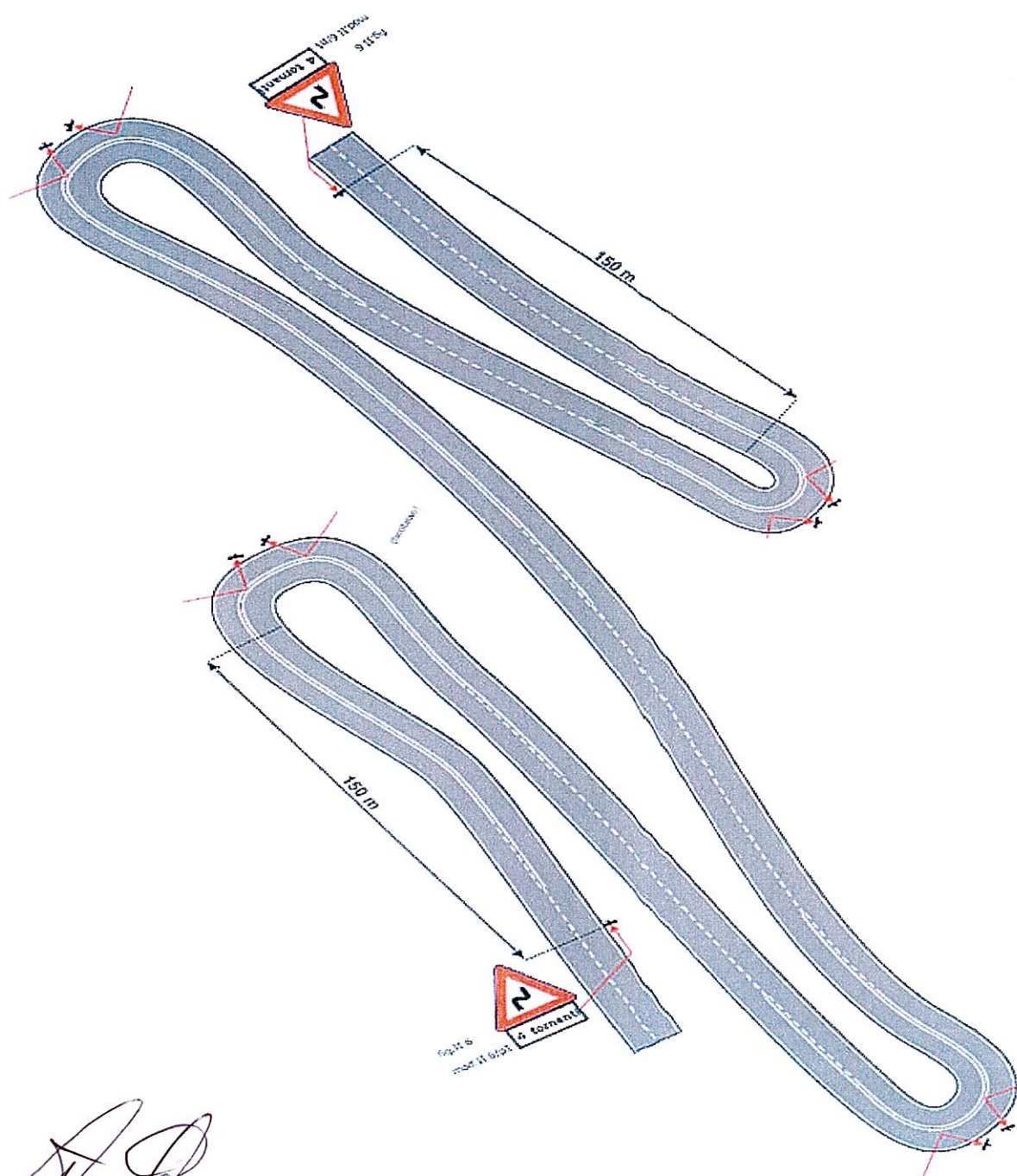
Segnale n° 1



Segnale n° 3



Segnale n° 3




Handwritten signature and initials.

DOMANDA 33 C

Per segnalare una curva su un tratto di strada extraurbano (vedi schema) quale tipologia di segnale va posato



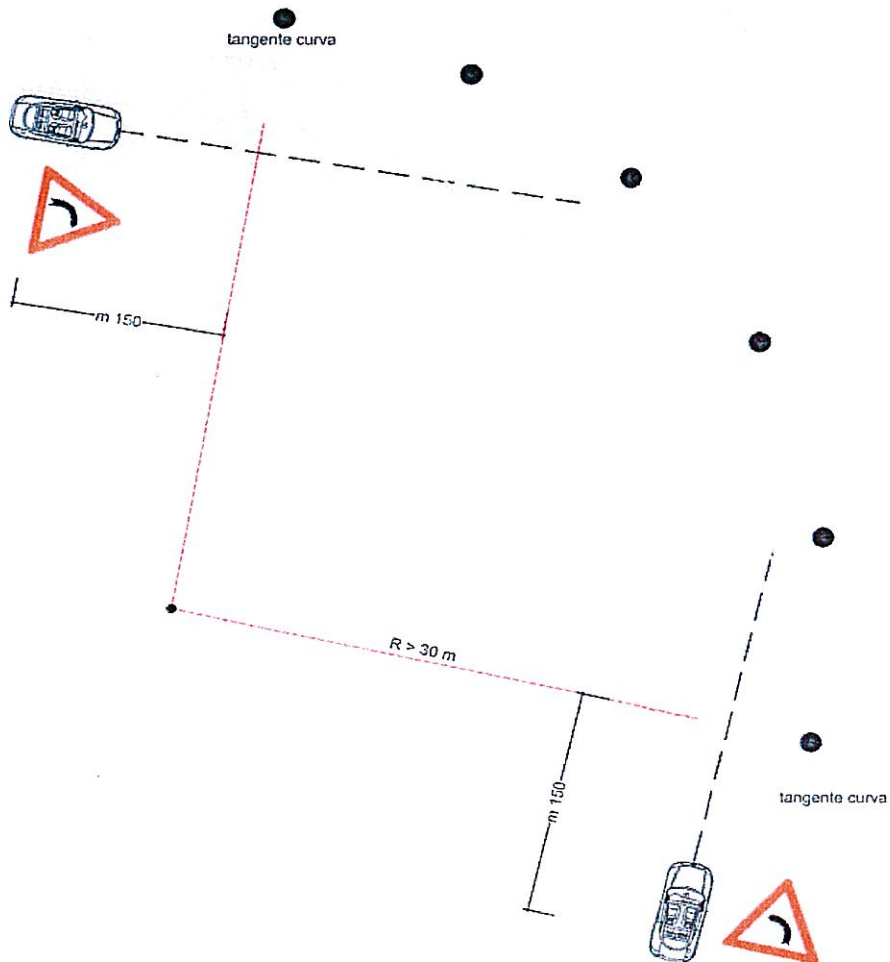
Segnale n° 1



Segnale n° 3



Segnale n° 3



Handwritten signature and initials

DOMANDA 34 C

Assemblare la segnaletica appropriata riguardante il pericolo caduta sassi a sinistra la cui posizione è a 200 m dall'inizio del pericolo con uno sviluppo dello stesso di 3 km, vedi schema.

[Handwritten signatures and initials]


SEGNALI DA USARE




Segnale 1




Segnale 2




Segnale 3



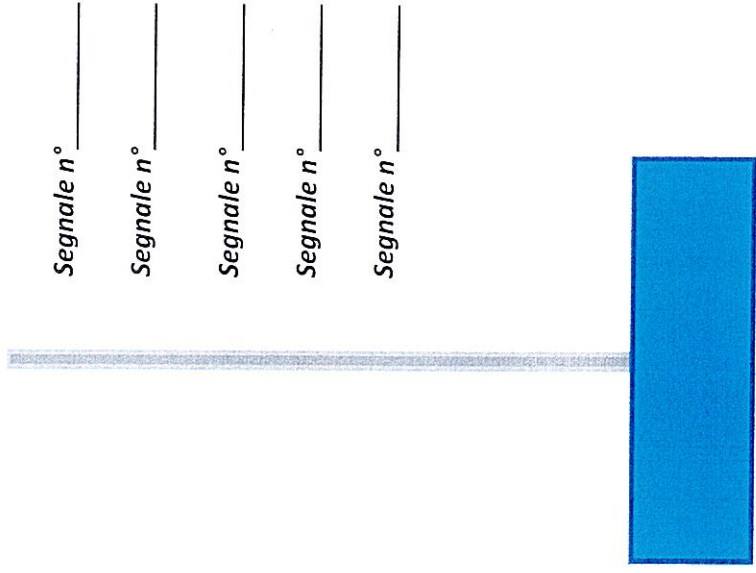
Segnale 4



Segnale 5



Segnale 6



Segnale n° _____

Segnale n° _____

Segnale n° _____


Segnale n° _____

Segnale n° _____

[Handwritten signature]

Assemblare la segnaletica appropriata riguardante il pericolo code da posizionare a 500 m dall'inizio della coda.


SEGNALI DA USARE




Segnale 1




Segnale 2



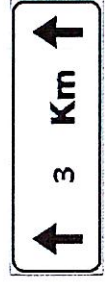
Segnale 3



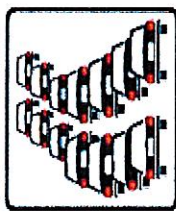
Segnale 8



Segnale 5



Segnale 4



Segnale 6



Segnale 7

Segnale n° _____

Segnale n° _____

Segnale n° _____

Segnale n° _____


Segnale n° _____




Handwritten signatures and initials: RR, MCO

Assemblare la segnaletica appropriata riguardante il pericolo a seguito di incidente.

SEGNALI DA USARE




Segnale 1



Segnale 3



Segnale 5



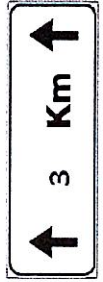
Segnale 5



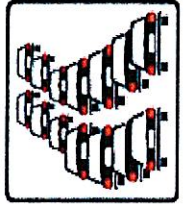
Segnale 2



Segnale



Segnale 4



Segnale 6



Segnale 7

Segnale n° _____

Segnale n° _____


Segnale n° _____

Segnale n° _____


Segnale n° _____




Assemblare la segnaletica appropriata riguardante il pericolo segnaletica orizzontale in rifacimento.



SEGNALI DA USARE




Segnale 1



Segnale 3



Segnale 5



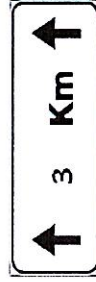
Segnale 5




Segnale 2



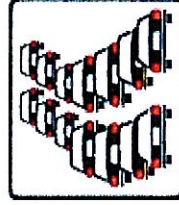
Segnale



Segnale 4



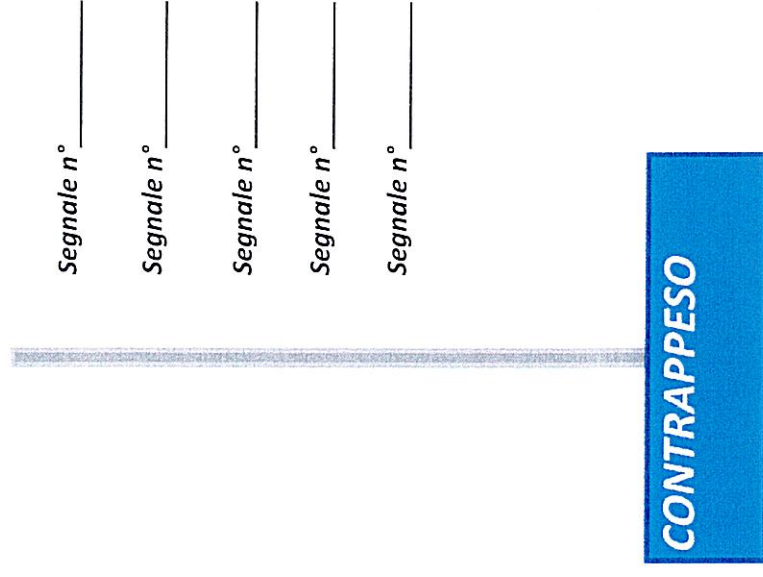
Segnale 8



Segnale 6



Segnale 7



Indicare la sequenza di un gruppo
segnaletico composto da segnali di
indicazione extraurbana con sfondo blu, vedi
schema.

SEGNALI DA INSTALLARE

Segnale n° 1



Direzione Dx

Segnale n° 2



Direzione Dx

Segnale n° 3




Direzione Sx

Segnale n° 4




Direzione Sx

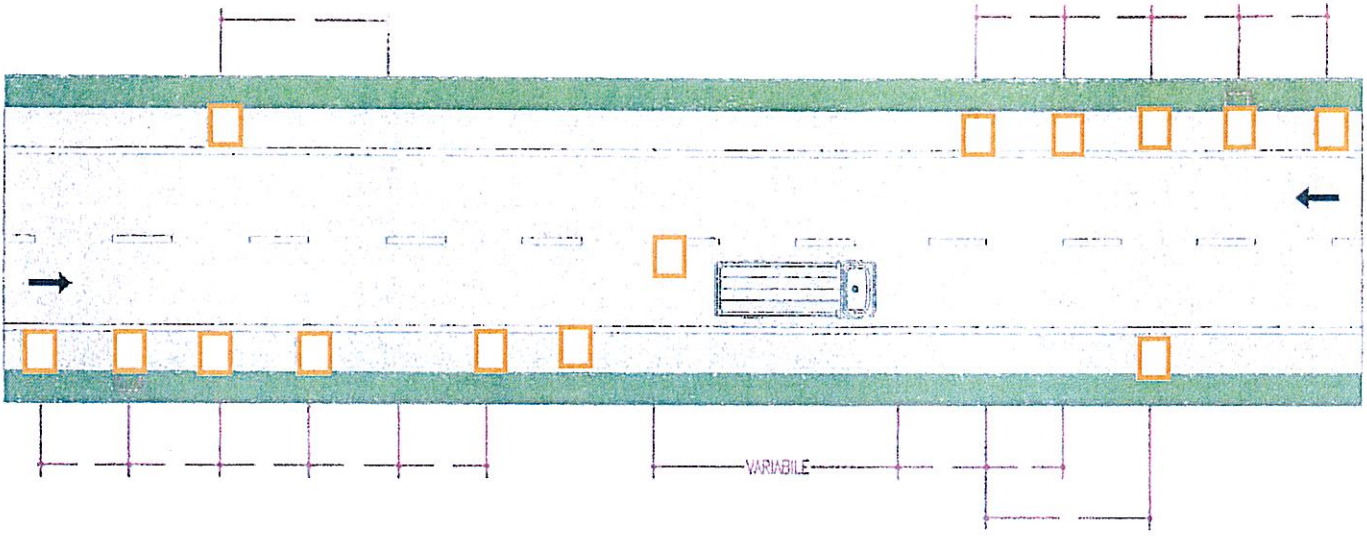


Lavori di realizzazione di banchina su carreggiata con transito a senso unico alternato regolato da semaforo, Sez. disponibile inferiore a 5,60 m durata cantiere 3 ore

INDICARE LA POSIZIONE CORRETTA DELLA SEGNALETICA INSERENDO IL NUMERO CORRETTO DEI SEGNALI RIPRODOTTI NELLA SEGNALETICA DA UTILIZZARE

SEGNALETICA DA UTILIZZARE

- 1.
 - 2.
 - 3.
 - 4.
 - 5.
 - 6.
 - 7.
 - 8.
 - 9.
 - 10.
 - 11.
- 












DOMANDA 40 C

DESCRIZIONE DELL'INTERVENTO:

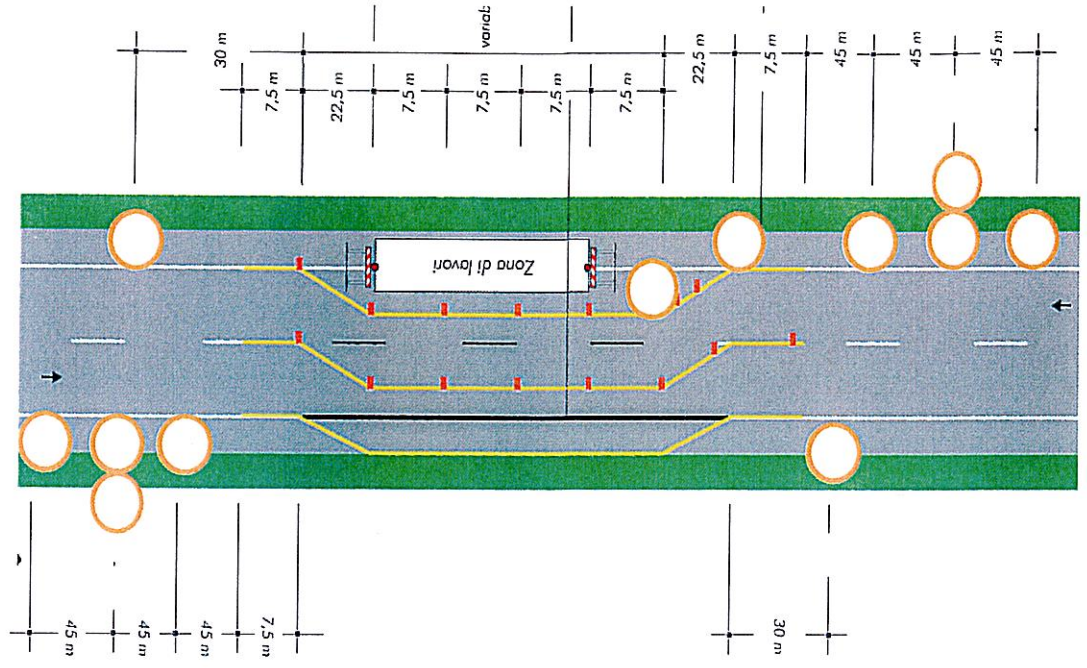
Indicare sullo schema allegato la posizione corretta della segnaletica di cantiere per lavori di rifacimento pozzetto dello scarico delle acque superficiali su una carreggiata a doppio senso di circolazione con sezione disponibile superiore a 5,60 m la cui durata dei lavori è di 4 ore



SEGNALETICA DA UTILIZZARE:

1. 
2. 
3. 
4. 
5. 
6. 
7. 
8. 
9. 

Indicare la posizione corretta della segnaletica riportata in basso a sinistra



DOMANDA 41 C













Indicare la posizione corretta della segnaletica riportata in basso a sinistra

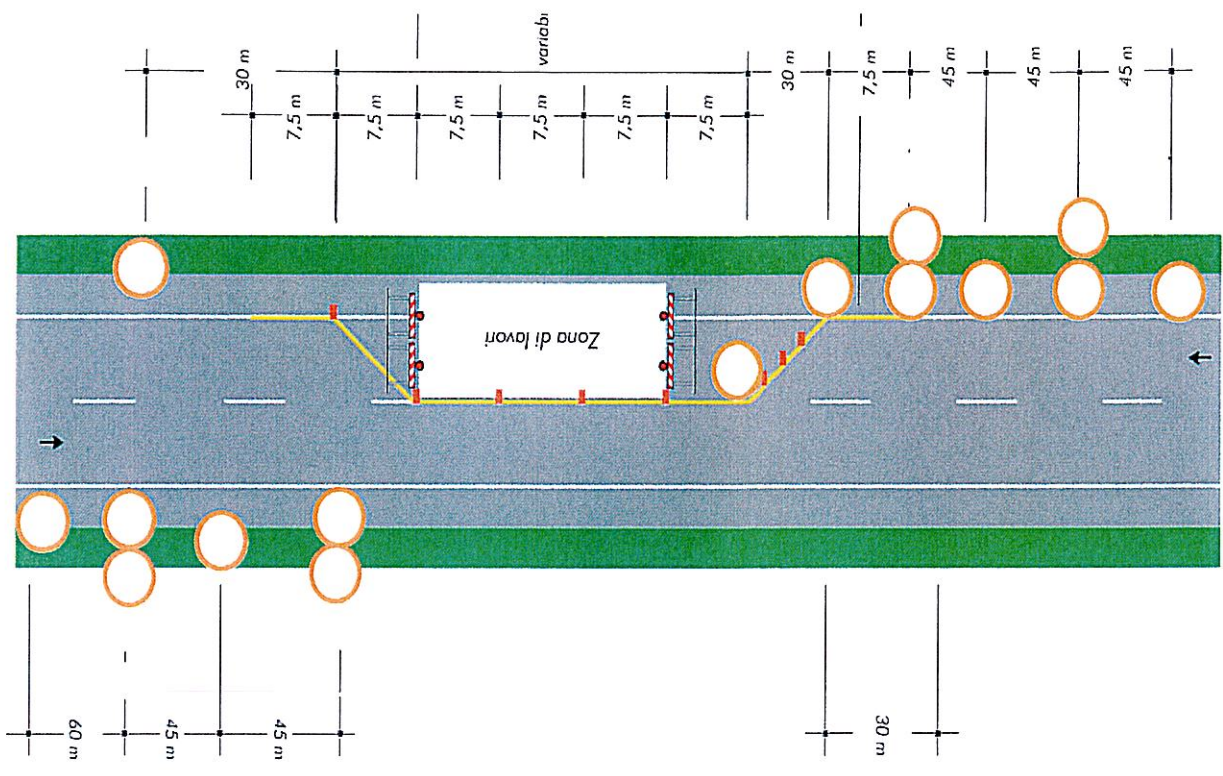
DESCRIZIONE DELL'INTERVENTO:

Indicare sullo schema allegato la posizione corretta della segnaletica di cantiere per lavori di rifacimento pozzetto dello scarico delle acque superficiali su una carreggiata a doppio senso di circolazione con sezione disponibile inferiore a 5,60 m per una lunghezza del cantiere pari a 45 m e una durata di 8 ore

[Handwritten signature]
100

SEGNALETICA DA UTILIZZARE:

- 1. 
- 2. 
- 3. 
- 4. 
- 5. 
- 6. 
- 7. 
- 8. 
- 9. 
- 10. 
- 11. 
- 12. 










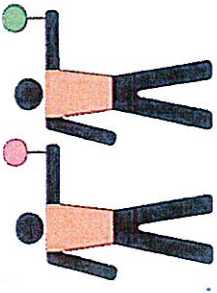
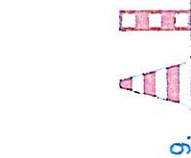



DOMANDA 42 C

DECRIZIONE DELL'INTERVENTO:

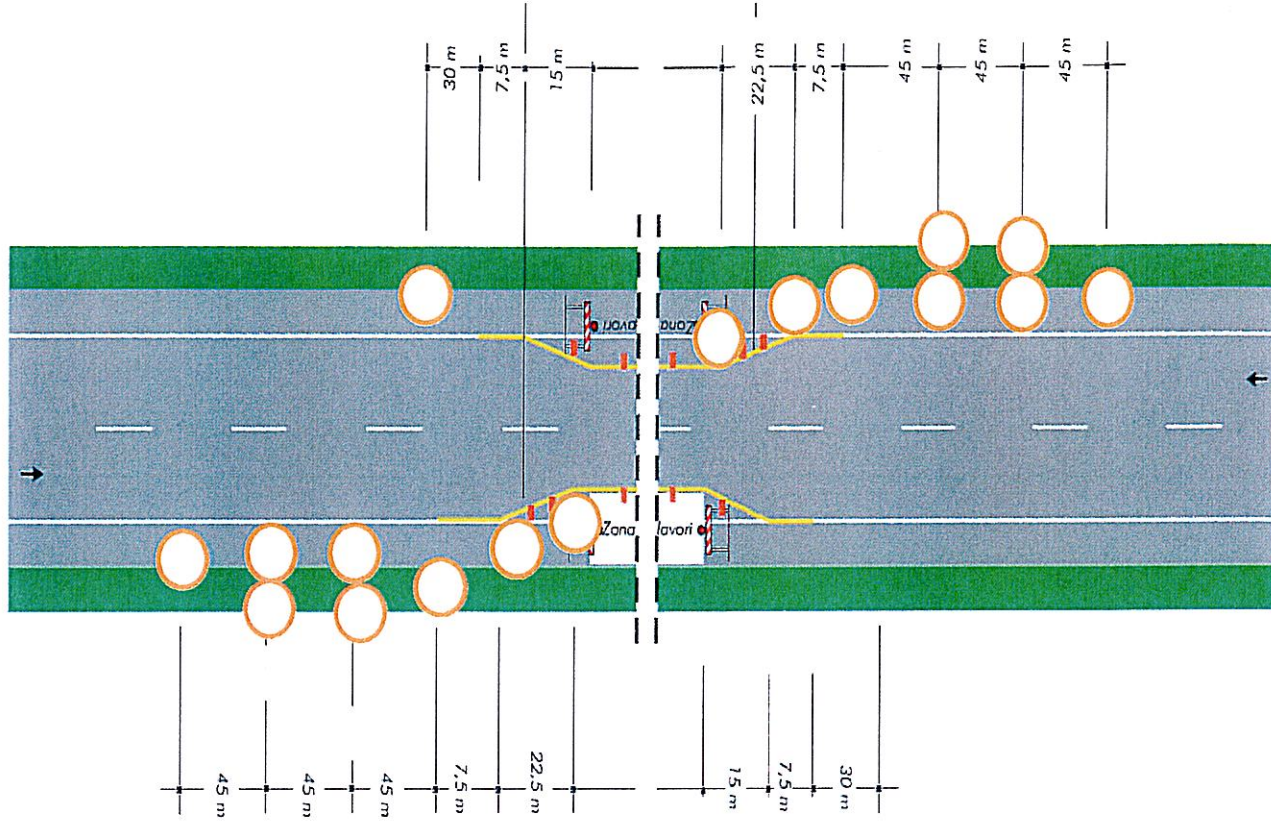
Indicare sullo schema allegato la posizione corretta della segnaletica di cantiere per un lavori di sistemazione della banchina su una carreggiata a doppio senso di circolazione con regolamentazione del traffico a senso unico alternato con movieri (SUA) la cui durata dei lavori è di 8 ore



SEGNALETICA DA UTILIZZARE:

- 1. 
- 2. 
- 3. 
- 4. 
- 5. 
- 6. 
- 7. 
- 8. 
- 9. 
- 10. 
- 11. 
- 12. 

Indicare la posizione corretta della segnaletica riportata in basso a sinistra



DECRIZIONE DELL'INTERVENTO:

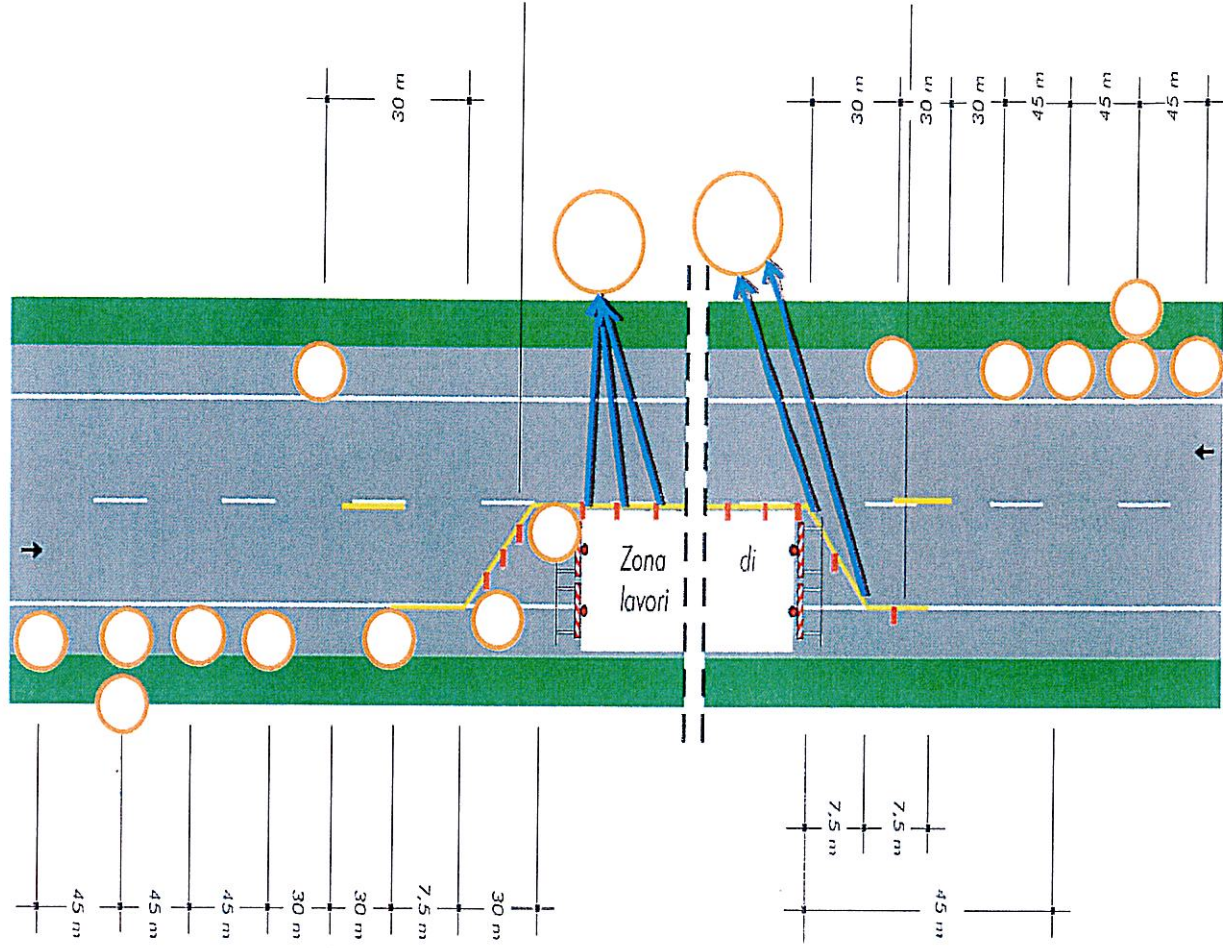
Indicare sullo schema allegato la posizione corretta della segnaletica di cantiere per un lavori di realizzazione di cordolo in calcestruzzo in banchina su una carreggiata a doppio senso di circolazione con regolamentazione del traffico a senso unico alternato con impianto semaforico (SUA) la cui durata dei lavori è di 15 giorni.

[Handwritten signature]

SEGNALETICA DA UTILIZZARE:

- 1.
- 2.
- 3.
- 4.
- 5.
- 6.
- 7.
- 8.
- 9.
- 10.
- 11.
- 12.

Indicare la posizione corretta della segnaletica riportata in basso a sinistra




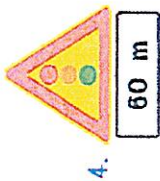









DECRIZIONE DELL'INTERVENTO:

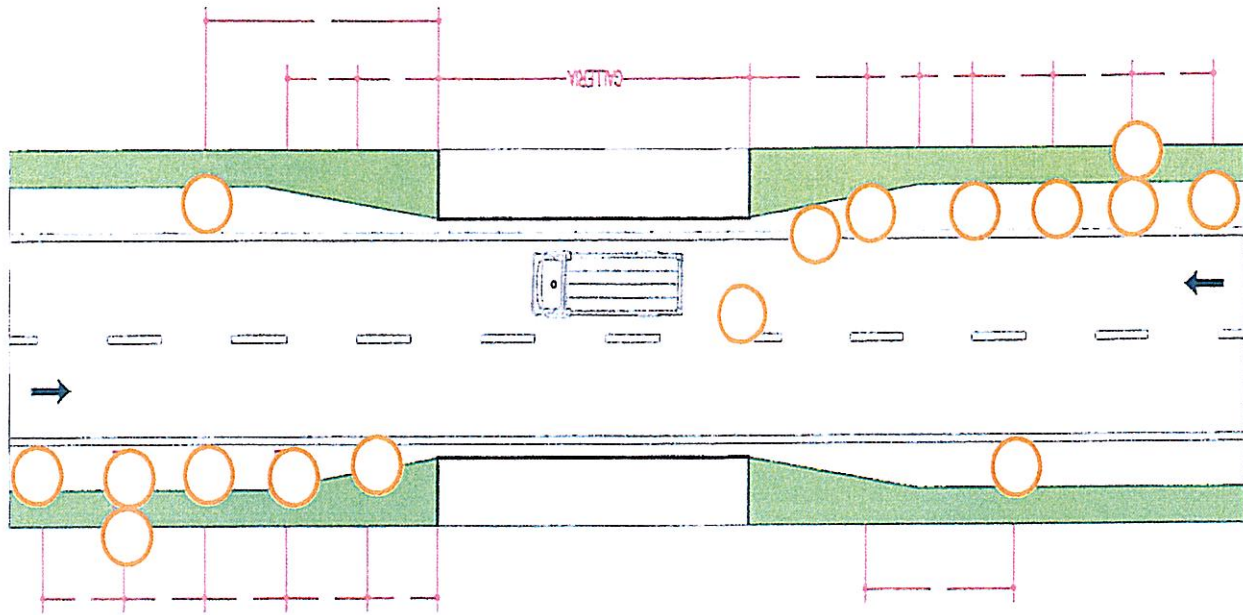
Indicare sullo schema allegato la posizione corretta della segnaletica di cantiere per un lavori di sostituzione lampade in galleria su una carreggiata a doppio senso di circolazione con regolamentazione del traffico a senso unico alternato con impianto semaforico (SUA) la cui durata dei lavori è di 8 ore

[Handwritten signature]

SEGNALETICA DA UTILIZZARE:

- 1. 
- 2. 
- 3. 
- 4. 
- 5. 
- 6. 
- 7. 
- 8. 
- 9. 
- 10. 
- 11. 

Indicare la posizione corretta della segnaletica riportata in basso a sinistra




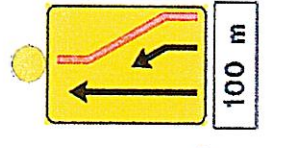

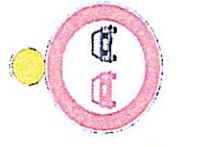






DECRIZIONE DELL'INTERVENTO:

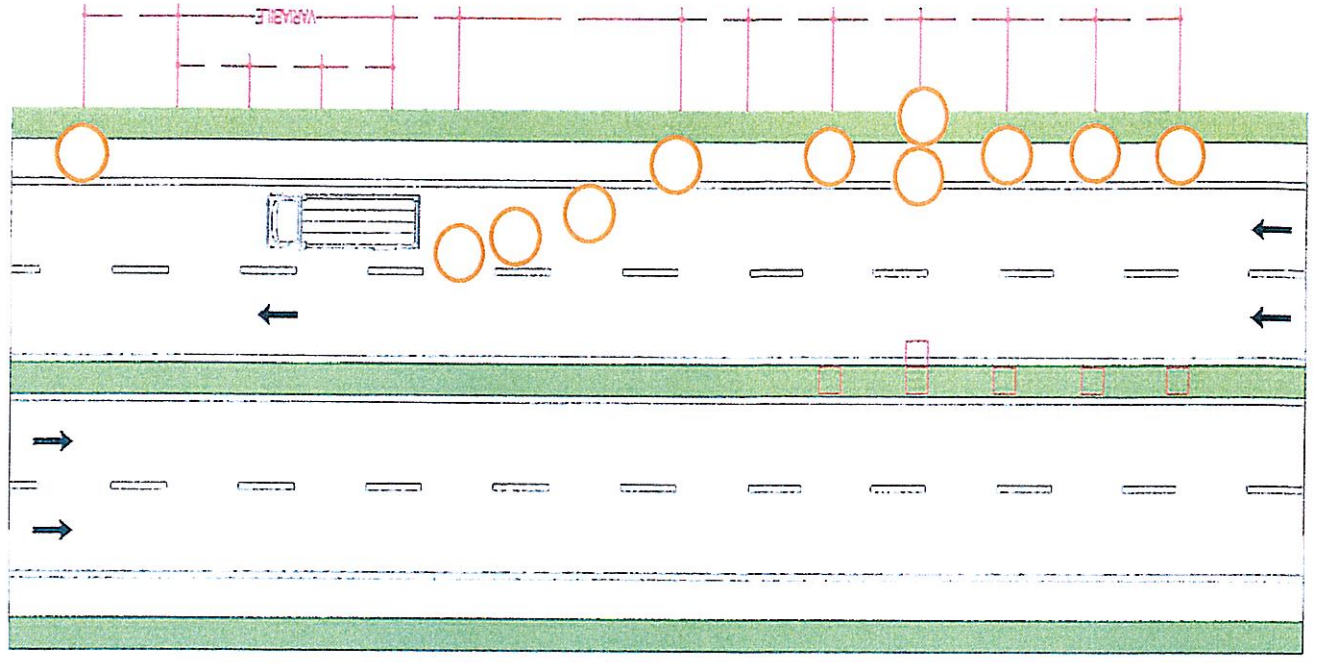
Indicare sullo schema allegato la posizione corretta della segnaletica di cantiere per un lavori di bitumatura sulla corsia di destra su strada extraurbana a due corsie per senso di marcia la cui durata dei lavori è di 8 ore.

[Handwritten signature]

SEGNALETICA DA UTILIZZARE:

- 1.  600 m
- 2.  70
- 3.  350 m
- 4.  100 m
- 5.  50
- 6. 
- 7. 
- 8. 
- 9. 
- 10. 

Indicare la posizione corretta della segnaletica riportata in basso a sinistra



DECRIZIONE DELL'INTERVENTO:

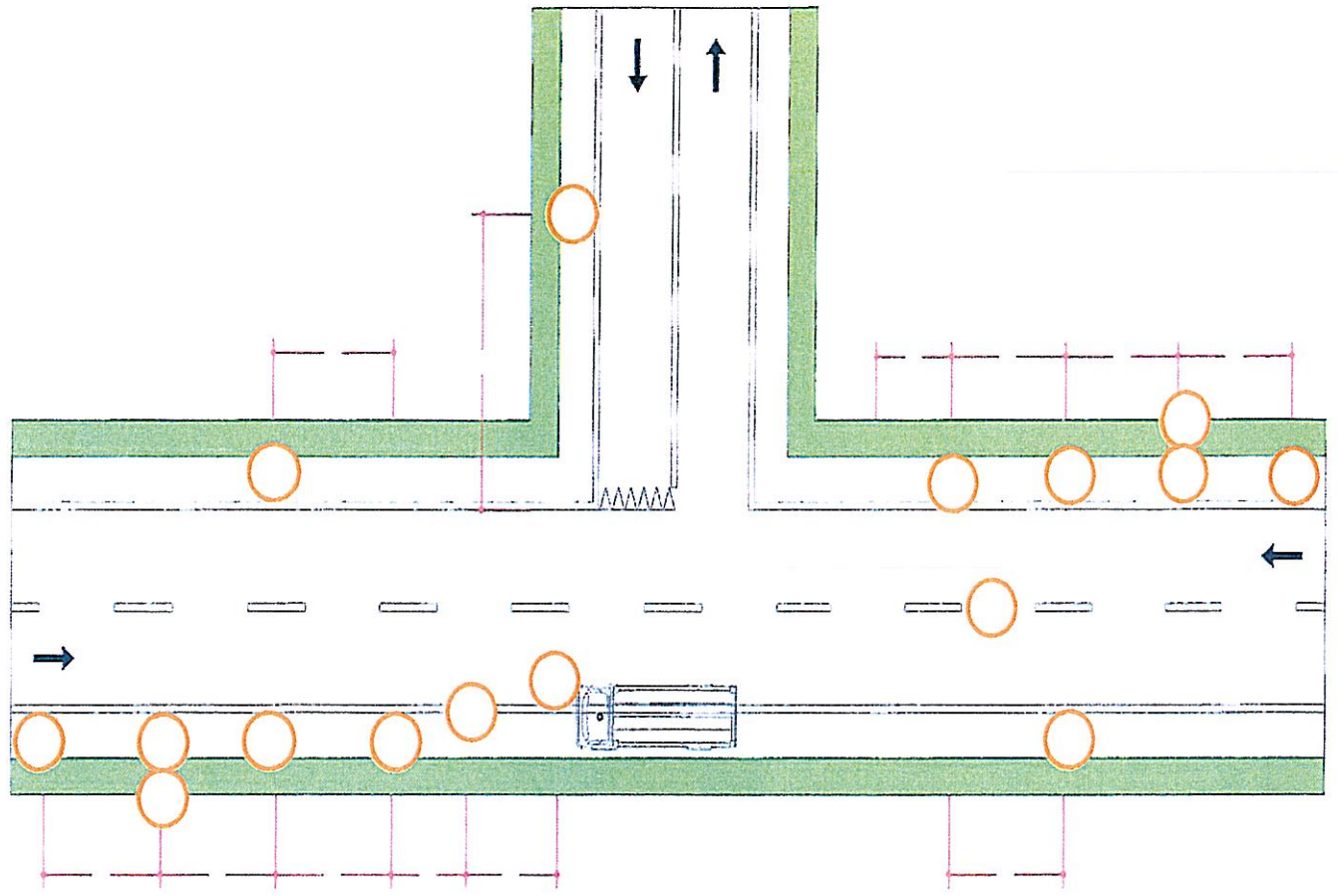
Indicare sullo schema allegato la posizione corretta della segnaletica di cantiere per un lavori di bitumatura su strada extraurbana a una corsie per senso di marcia in prossimità di una intersezione con sezione disponibile superiore a 5,60 m la cui durata dei lavori è di 8 ore.

[Handwritten signature]

SEGNALETICA DA UTILIZZARE:

- 1.
- 2.
- 3.
- 4.
- 5.
- 6.
- 7.
- 8.
- 9.
- 10.

Indicare la posizione corretta della segnaletica riportata in basso a sinistra



DESCRIZIONE DELL'INTERVENTO:

Indicare sullo schema allegato la posizione corretta della segnaletica di emergenza causa incidente sulla corsia di sinistra su strada extraurbana a due corsie per senso di marcia.

[Handwritten signature]

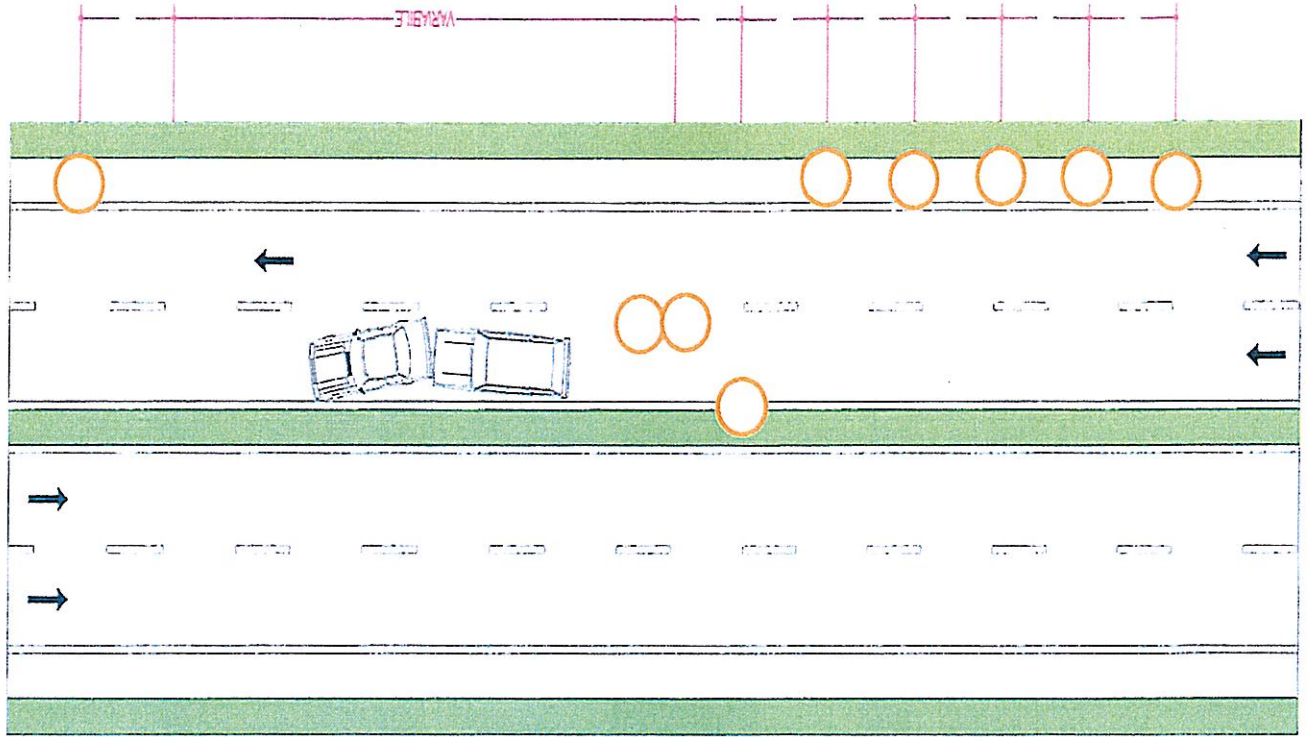
SEGNALETICA DA UTILIZZARE:

- 1.
- 2.
- 3.
- 4.
- 5.
- 6.
- 7.
- 8.
- 9.

250 m

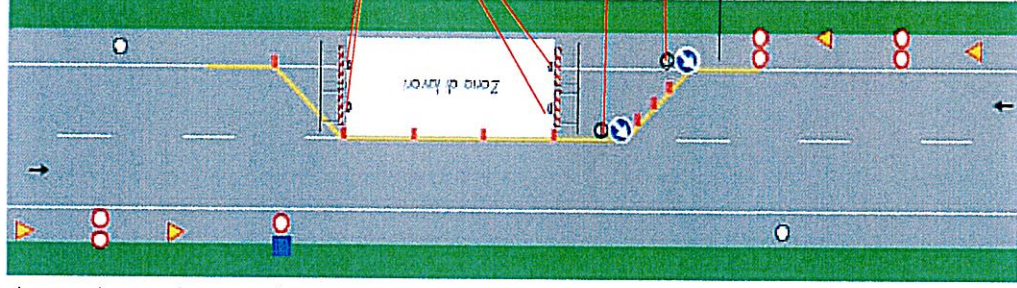
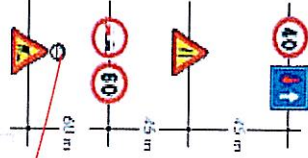
500 m

Indicare la posizione corretta della segnaletica riportata in basso a sinistra



In una strada extraurbana è presente un cantiere stradale come da tavola allegata, indicare che colore devono essere le luci notturne poste sulla segnaletica.


Colore luci notturne




Colore luci notturne

Colore luci notturne

Colore luci notturne



nr 2




nr 1

Assemblare la segnaletica appropriata riguardante il pericolo strada scivolosa per pioggia, neve e ghiaccio per un tratto di 2000 m, vedi schema.

[Handwritten signatures]




Segnale n° 3




Segnale n° 7




Segnale n° 2




Segnale n° 4




Segnale n° 1



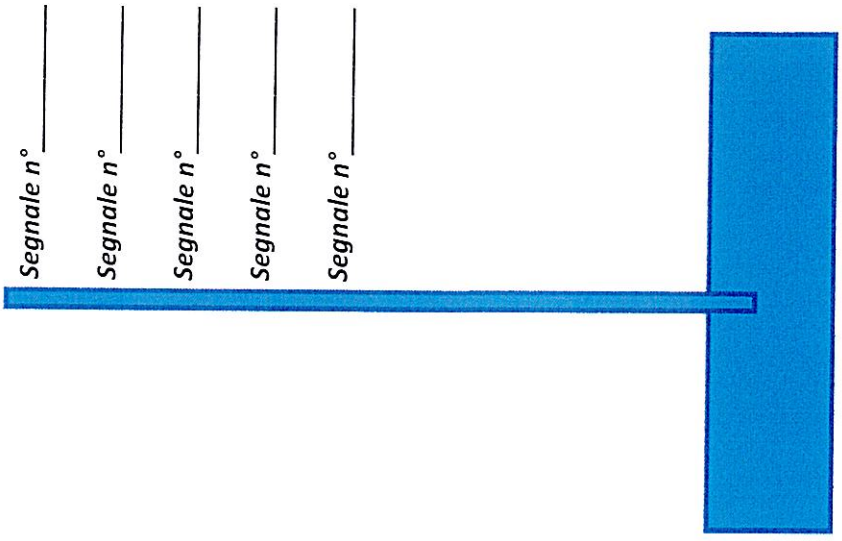
Segnale n° 6




Segnale n° 5



Segnale n° 8




Handwritten signatures and initials in blue ink.




Segnale n° 1



Segnale n° 4



Segnale n° 5



Segnale n° 6




Segnale n° 2



Segnale n° 8



Segnale n° 7

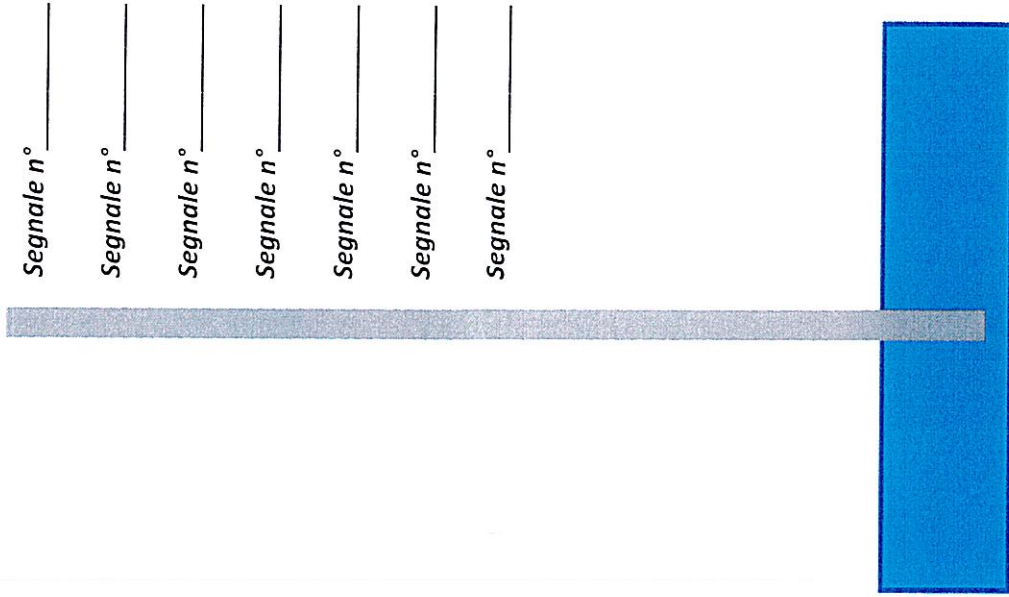


Segnale n° 3



Segnale n° 9

Assemblare la segnaletica appropriata riguardante un doppio pericolo con medesimo inizio di caduta sassi sul ciglio destro per un tratto di 3 km e banchina cedevole per un tratto di 1 km, vedi schema



Segnale n° _____

Segnale n° _____

Segnale n° _____

Segnale n° _____

Segnale n° _____

Segnale n° _____

Segnale n° _____



figura 30b

Si deve posare un cartelli di pericolo di caduta massi sul lato destro della carreggiata (fig 30b) su un segmento di strada pari a 5 km vedi schema. Che tipo di pannello integrativo va aggiunto al primo segnale di pericolo e ogni quanto va ripetuto.

Segnale n° 7

2000 m

Segnale n° 1

↑ 2 Km ↑

Segnale n° 3

3000 m

Segnale n° 4

↑ 3 Km ↑

Segnale n° 5

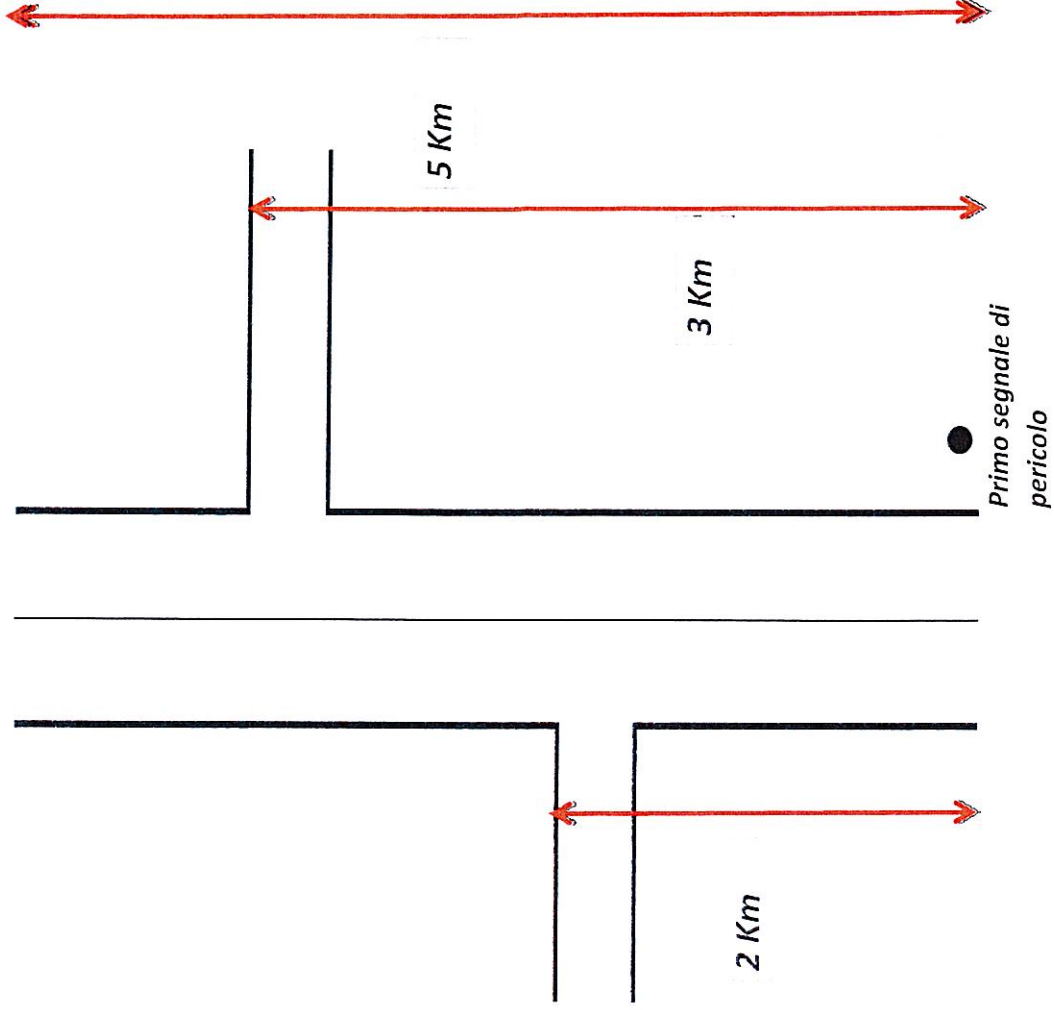
5000 m

Segnale n° 6

↑ 2,8 Km ↑

Segnale n° 2

↑ 5 Km ↑



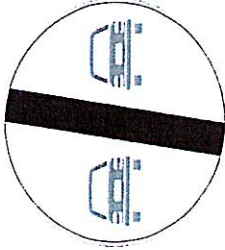
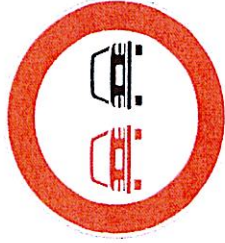


figura 30a


figura 48

figura 72


Si deve posare un cartello di pericolo di caduta massi sul lato sinistro (fig 30a) su un segmento di strada pari a 5 km vedi schema. Per maggiore sicurezza viene posto anche il segnale di divieto di sorpasso (fig.48). Come vanno posizionati i cartelli e che tipo di pannelli integrativi sono eventualmente necessari in aggiunta al primo segnale di pericolo e di divieto e ogni quanto va ripetuto.

[Handwritten signature and initials]


Segnale n° 7




Segnale n° 3




Segnale n° 5



Segnale n° 1



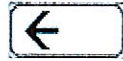
Segnale n° 4




Segnale n° 6



Segnale n° 8



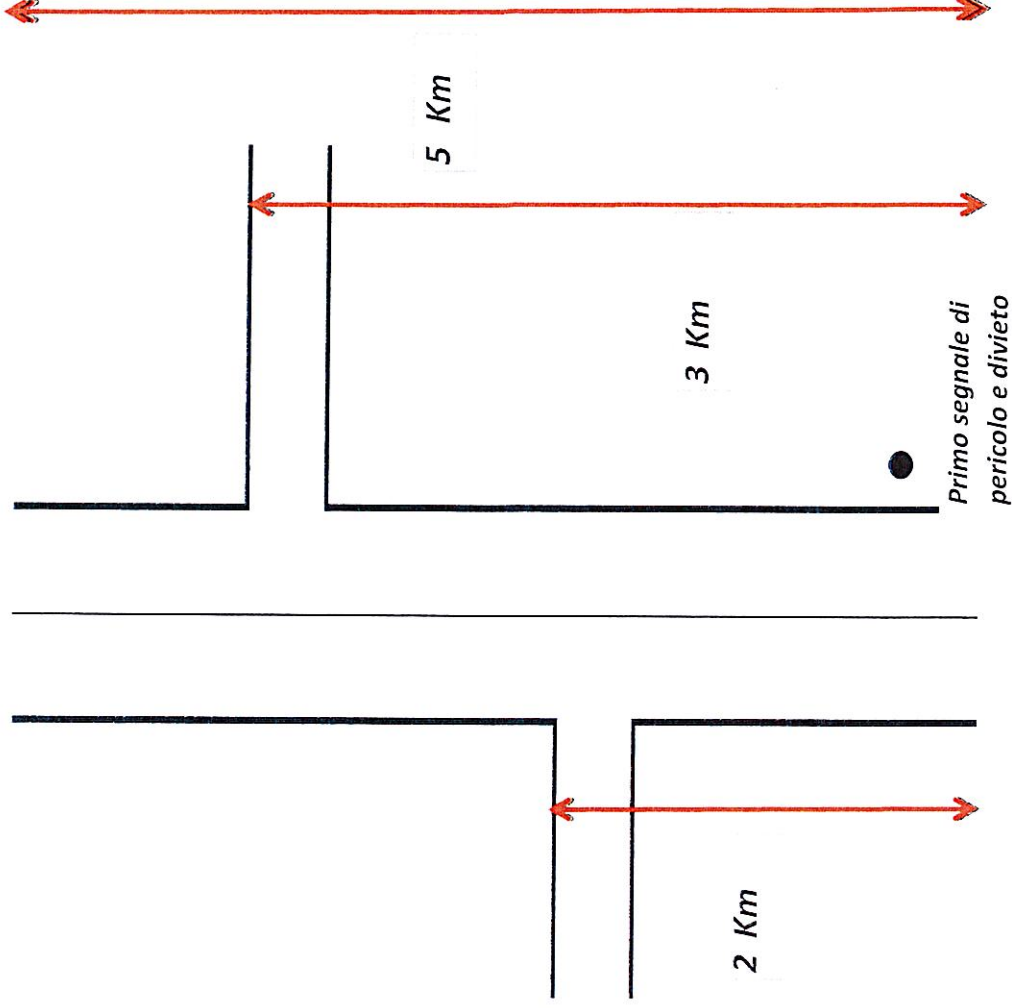
Segnale n° 2



Segnale n° 10



Segnale n° 9




Assemblare la segnaletica appropriata riguardante un pericolo con medesimo inizio di animali domestici vaganti (fig. 24) per un tratto di 3 km e un divieto sorpasso (fig 48) e quale segnale si deve posare inoltre alla fine del tratto interessato vedi schema.



Segnale n° 1



Segnale n° 4



Segnale n° 5



Segnale n° 6



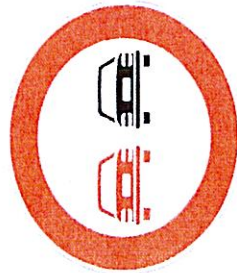
Segnale n° 2



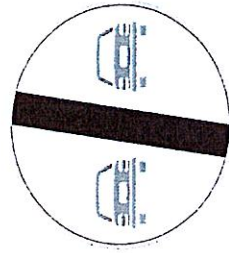
Segnale n° 8



Segnale n° 7



Segnale n° 3



Segnale n° 9

A fine tratto km 3

| | |
|------------------|------------------|
| Segnale n° _____ | Segnale n° _____ |
| Segnale n° _____ | Segnale n° _____ |
| Segnale n° _____ | Segnale n° _____ |
| Segnale n° _____ | Segnale n° _____ |
| Segnale n° _____ | Segnale n° _____ |
| Segnale n° _____ | Segnale n° _____ |
| Segnale n° _____ | Segnale n° _____ |

Handwritten signatures and initials in blue ink.



figura 50

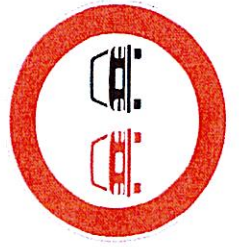


figura 48




figura 72

Handwritten signatures and initials in blue and black ink.



Figura 71





Figura 70

Segnale n° 1



Segnale n° 4



Segnale n° 6



Segnale n° 2



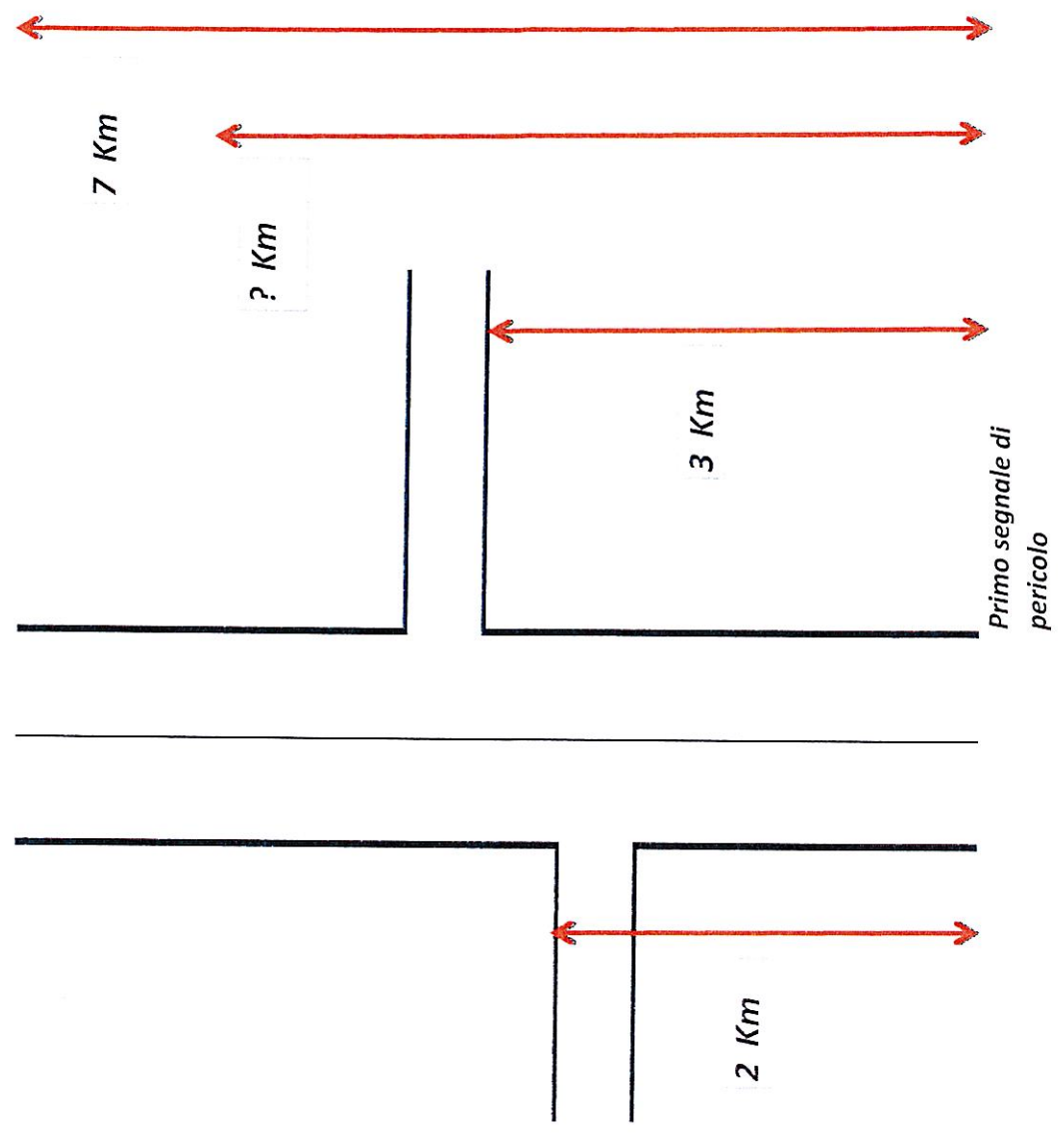
Segnale n° 10




Segnale n° 11




Si devono posare i cartelli di divieto di sorpasso (fig 48) e un limite di velocità pari a 70 Km/h fig 50, su un segmento di strada pari a 5 km vedi schema. Come vanno posizionati i cartelli ed eventualmente che tipo di pannelli integrativi vanno aggiunti al divieto e al limite di velocità e ogni quanto va ripetuto.




Segnale n° 1



Segnale n° 4




Segnale n° 2




Segnale n° 3



Segnale n° 5



Segnale n° 6



Posizione 1

Segnale n° _____
Segnale n° _____
Segnale n° _____

Posizione 2

Segnale n° _____
Segnale n° _____
Segnale n° _____

Posizione 3

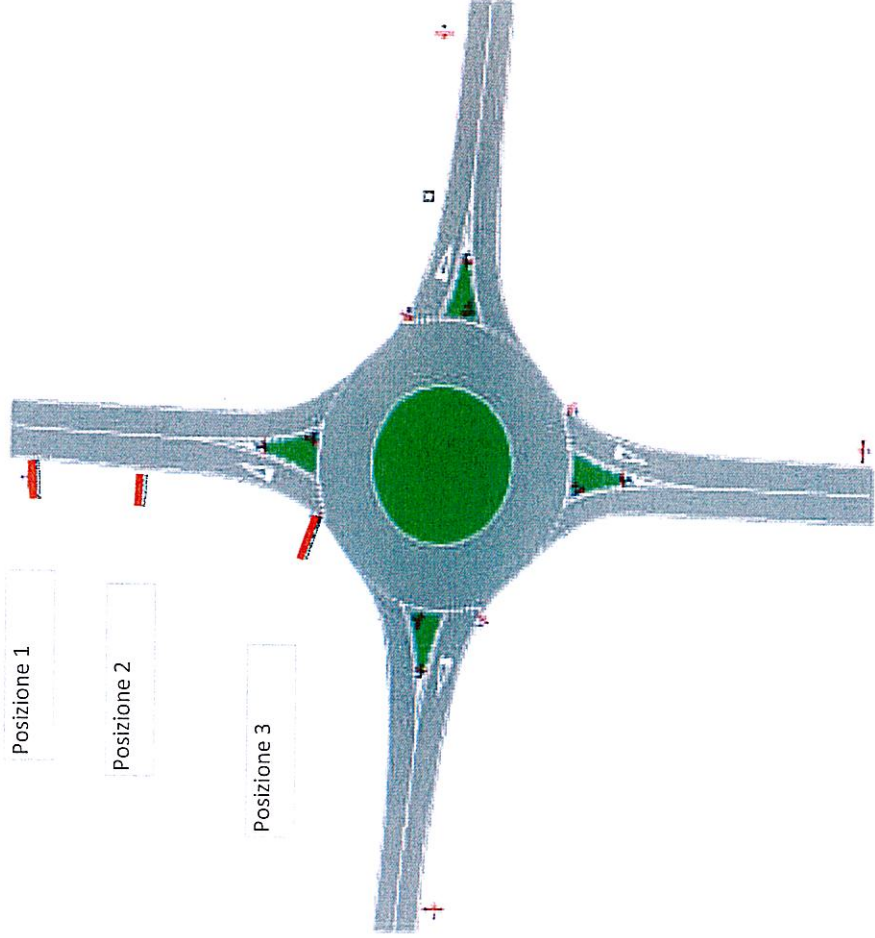
Segnale n° _____
Segnale n° _____
Segnale n° _____

Su una strada extraurbana dobbiamo posizionare la segnaletica verticale ad una intersezione (rotatoria), quale tipo di segnali vanno posati nelle tre posizioni riportate nello schema allegato, indicare il numero dei segnali corretto. Si precisa che la 1° posizione dista m 150, la 2° posizione dista m 100 dall'intersezione.

Posizione 1

Posizione 2

Posizione 3



[Handwritten signatures and initials]

segnale 8



segnale 9



segnale 10




segnale 11



segnale 12




Segnale n° 7



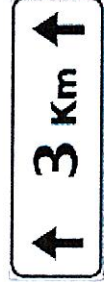
Segnale n° 1



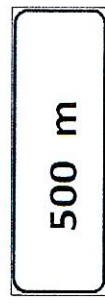
Segnale n° 3



Segnale n° 4




Segnale n° 5



Segnale n° 6



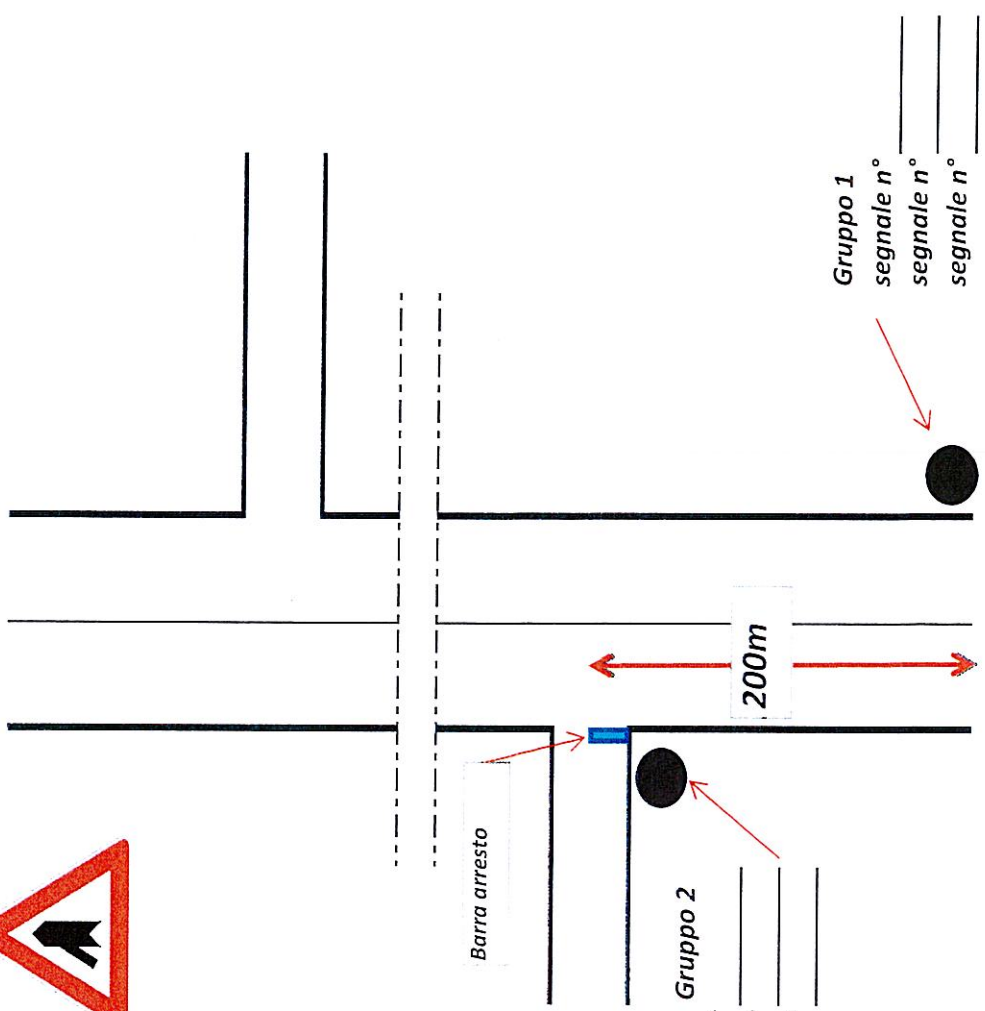
Segnale n° 13



Segnale n° 2



Si devono posare dei cartelli di precedenza (fig 43c fig 37) su un segmento di strada con incrocio a sinistra vedi schema. Per motivi di visibilità lo si deve posare a m 200, che tipo di segnale va utilizzato e se necessario che pannello integrativo va aggiunto. Nelle vicinanze della barra di arresto che segnale va posato.




Gruppo 1
segnale n°
segnale n°
segnale n°

Gruppo 2
segnale n°
segnale n°
segnale n°

[Handwritten signatures]

Segnale 1



Handwritten signature

Segnale 8

120 m

Handwritten signature

Segnale 6

100 m

Handwritten signature



Segnale 3



Segnale 7



Segnale 5

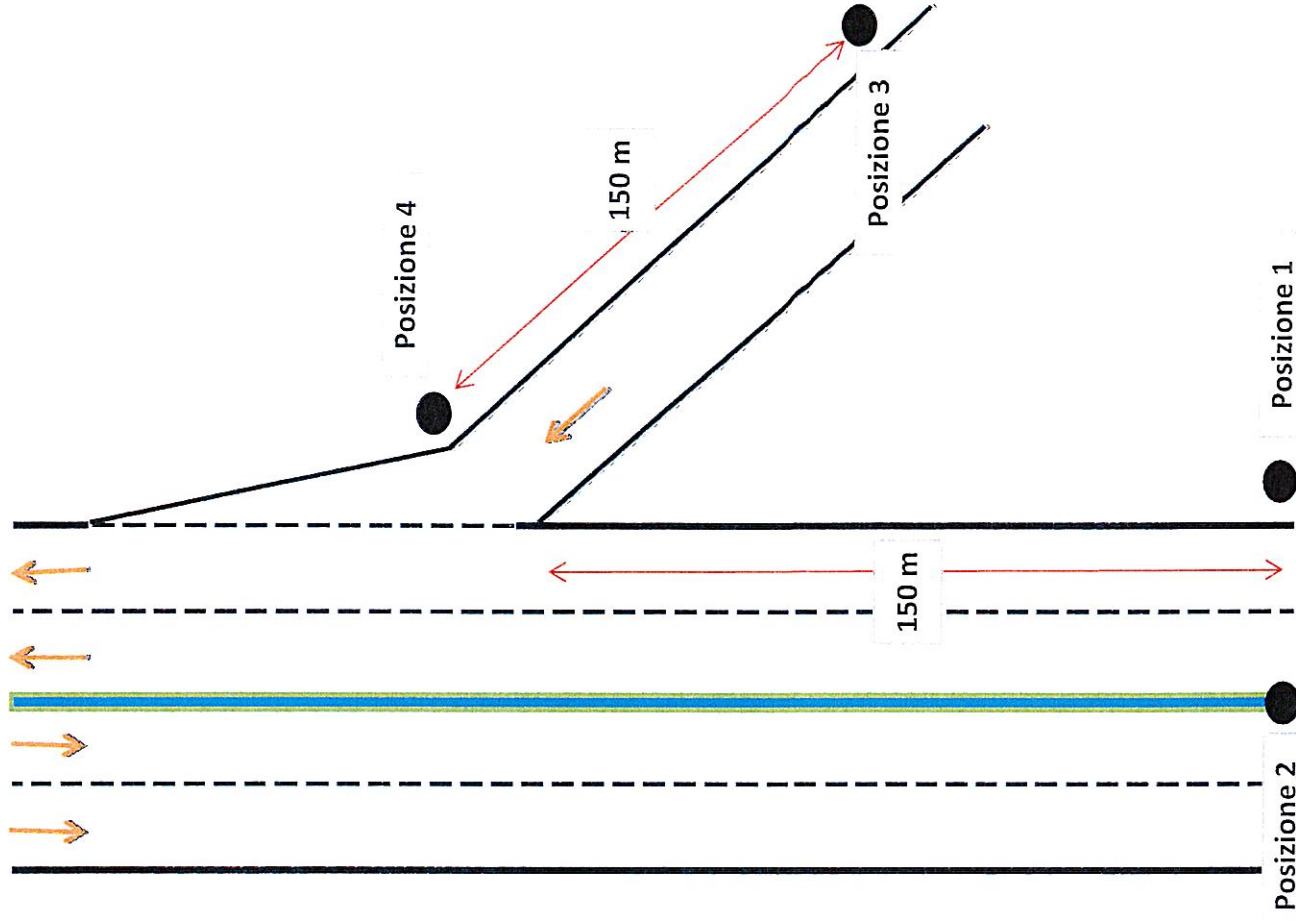


Segnale 4

Indicare con lettera R il segnale che ha dimensioni diverse da quelle normali

DOMANDA 57 C

Su una strada extraurbana non principale a due corsie per ogni senso di marcia in corrispondenza di un'intersezione con corsia di accelerazione si devono posare nei quattro punti indicati i segnali idonei tra quelli riportati nello schema allegato. Nella seconda posizione lo spazio ridotto.



Posizione 1

Segnale n° _____
Segnale n° _____
Segnale n° _____

Posizione 2

Segnale n° _____
Segnale n° _____
Segnale n° _____

Posizione 3

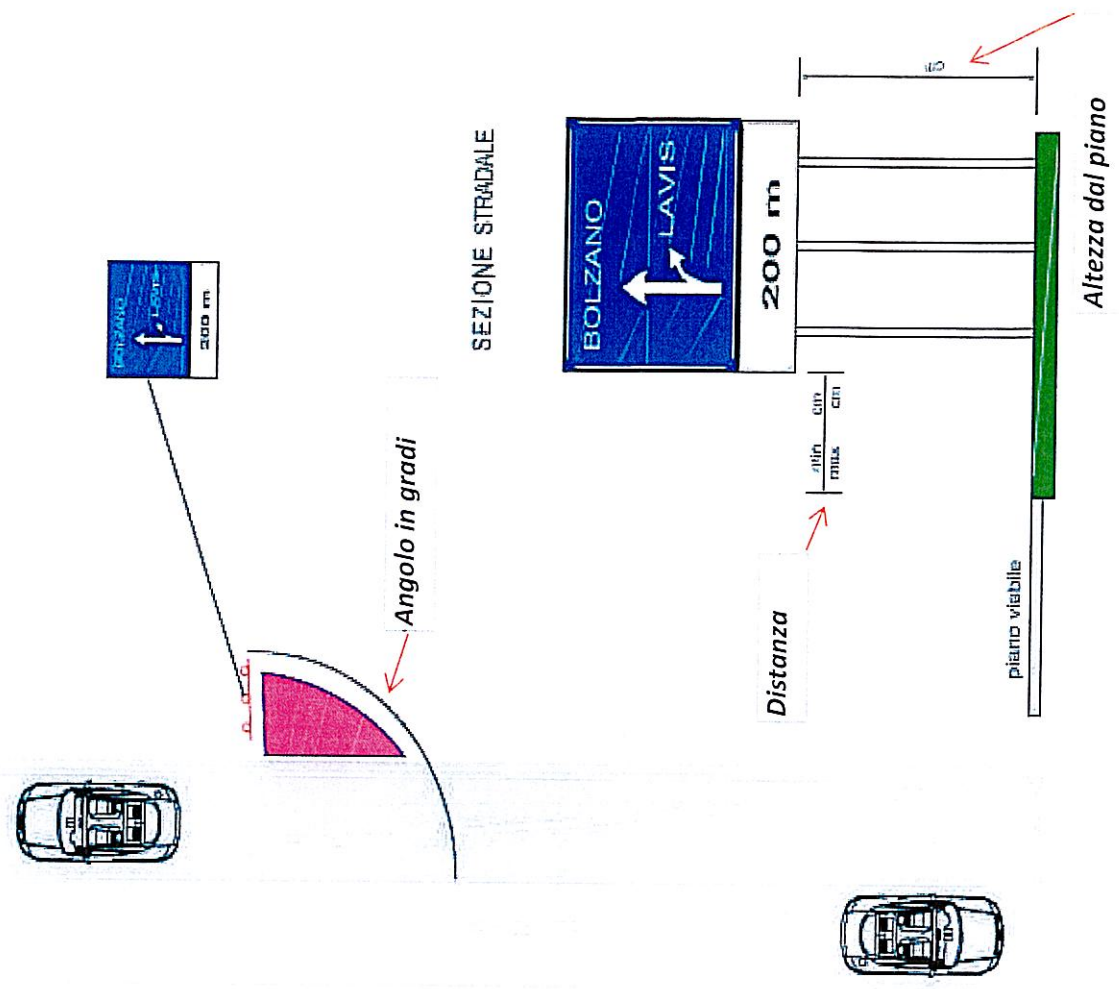
Segnale n° _____
Segnale n° _____
Segnale n° _____

Posizione 4

Segnale n° _____
Segnale n° _____
Segnale n° _____

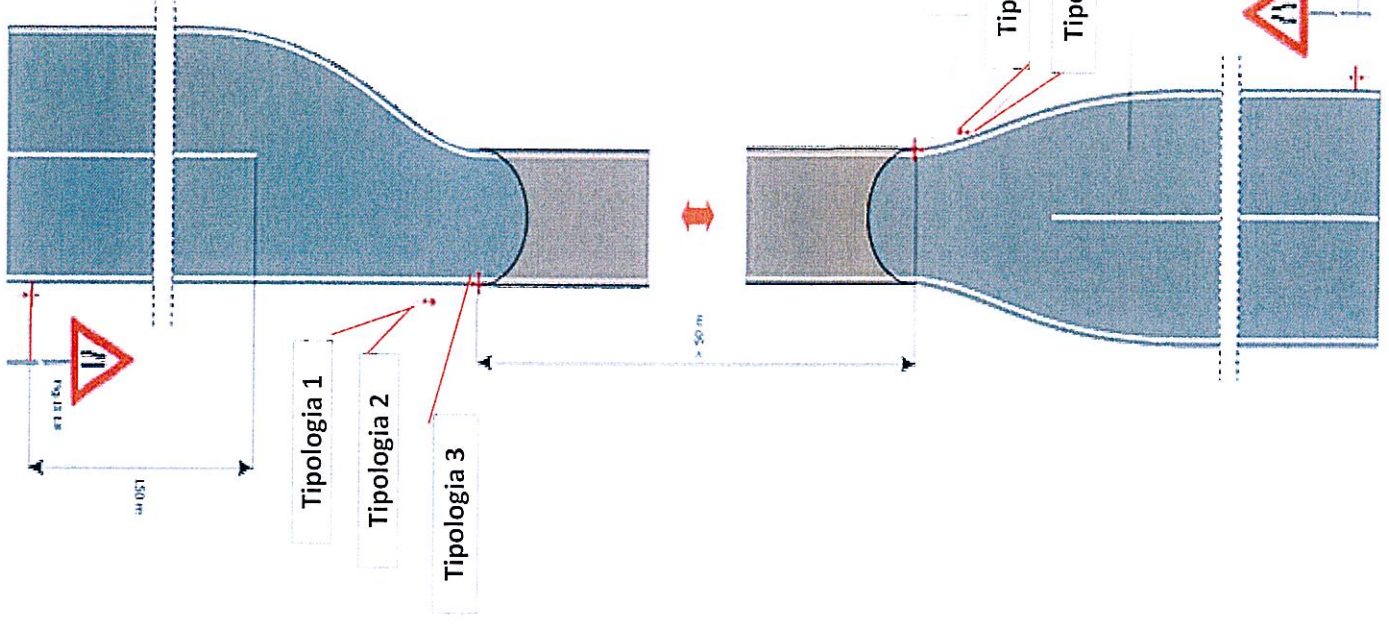


DOMANDA 58 C

Nello schema a fianco indicare l'angolo di posa del preavviso di bivio rispetto all'asse stradale, la distanza minima e massima dal ciglio asfalto, e l'altezza del preavviso dal piano della banchina.



DOMANDA 59 C

Su una strada extraurbana in centro abitato c'è un restringimento permanente con lunghezza superiore 50 metri con scarsa visibilità, vedi schema, quale tipo di regolamentazione del traffico si deve applicare tra quelli proposti affinché non ci siano intralci tra i veicoli, indicare il numero della tipologia prescelta e relativa posizione.



Tipologia 1
Segnale n° _____

Tipologia 2
Segnale n° _____

Tipologia 3
Segnale n° _____

Tipologia 4
Segnale n° _____

Tipologia 5
Segnale n° _____

Tipologia 6
Segnale n° _____

[Handwritten signature]

DOMANDA 60 C

Segnale n° 1

STOP 150 m



fig 39

Segnale n° 2

150 m




fig 38

Segnale n° 3




fig 36

Segnale n° 4



fig 37

Segnale n° 5



fig 43b

Segnale n° 6



fig 43c

Segnale n° 7



fig 43a

Segnale n° 9

100 m

mod 1a

Segnale n° 8

150 m

mod 1a

Su una strada extraurbana in presenza di due incroci come da schema, indicare il posizionamento della segnaletica proposta inserendo il numero relativo del segnale

Posizione 1
Segnale n°

Posizione 2
Segnale n°

Posizione 3
Segnale n°

Posizione 4
Segnale n°

Posizione 5
Segnale n°

Posizione 6
Segnale n°

Posizione 7
Segnale n°

Posizione 8
Segnale n°

Posizione 1

1 5 0

Posizione 2

1 0 0

Posizione 7

150 m

Posizione 8

Posizione 6

150 m

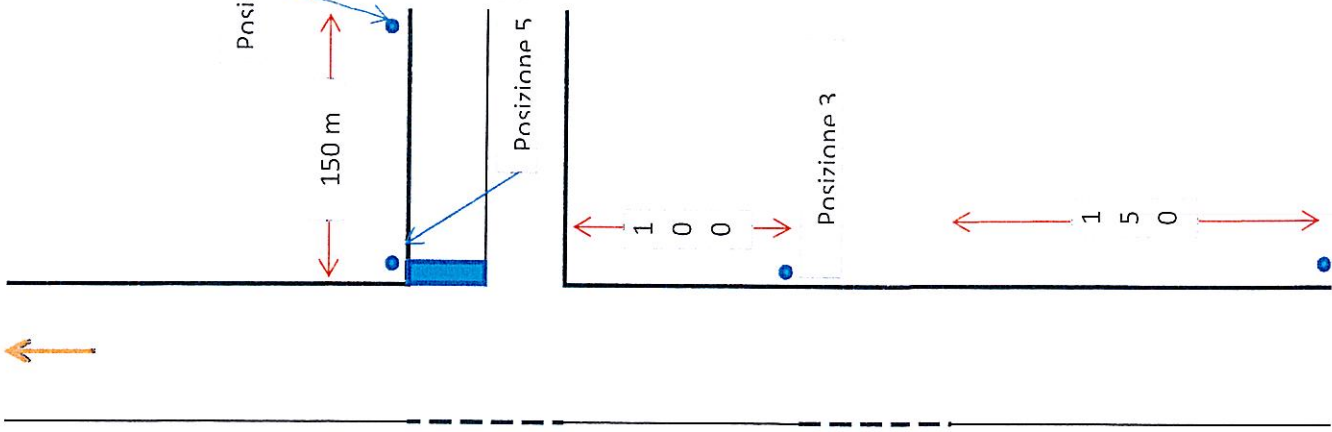

Posizione 5

1 0 0

Posizione 3

1 5 0

Posizione 4



DOMANDA 61 C

Si deve eseguire la pulizia della strada con spazzatrice, la cui carreggiata ha una larghezza maggiore di 5,60 m. La lunghezza massima del cantiere è di 3 km, con presenza di intersezione e traffico modesto. Quale segnaletica è la più appropriata durante l'esecuzione dei lavori tra quelle riportate nello schema e indicare la posizione dei segnali.



[Handwritten signatures]


Segnale n° 1



Segnale n° 3



Segnale n° 4

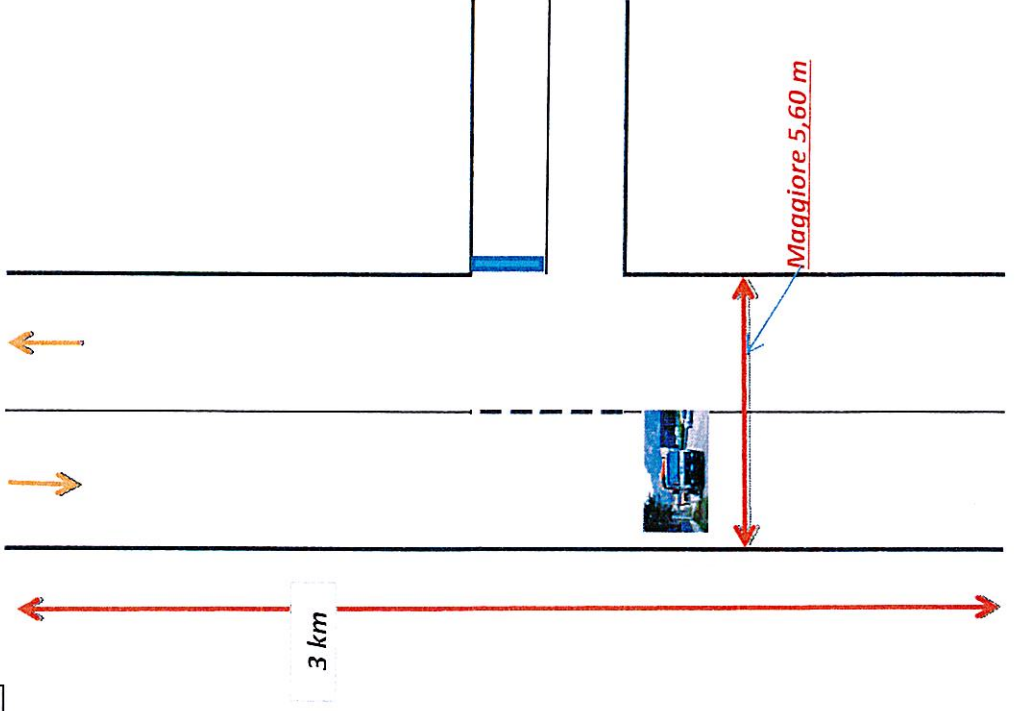


Segnale n° 5

Cantoniere con badiera per rallentare il traffico

Segnale n° 2

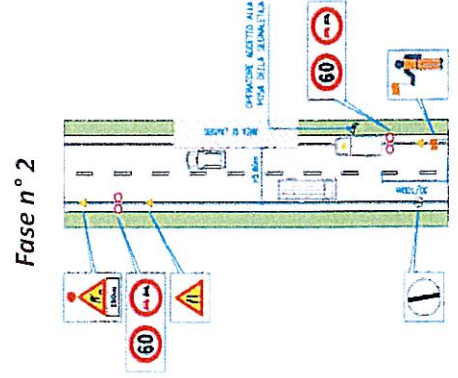
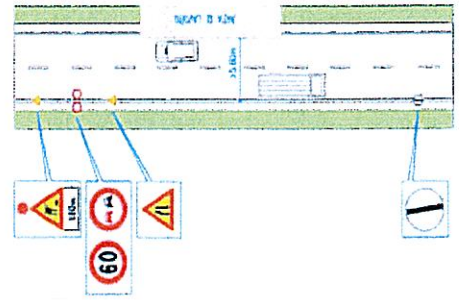
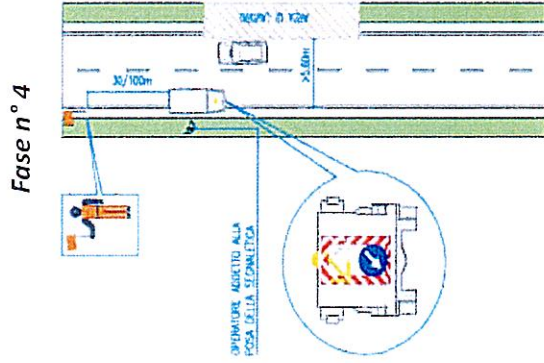
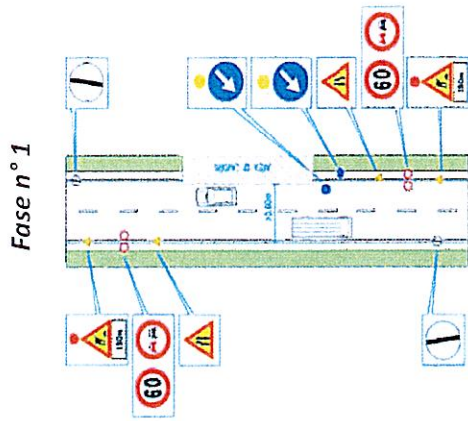
Cantoniere con badiera per rallentare il traffico



DOMANDA 62 C

Su strada extraurbana si deve posare un cantiere, indicare le varie fasi di esecuzione della posa della segnaletica riportate nello schema, sapendo che la sede rimanete è maggiore di 5,60 m.

[Handwritten signatures]



Riportare fasi di esecuzione

- Fase 1 n° _____
- Fase 2 n° _____
- Fase 3 n° _____
- Fase 4 n° _____

